

社 会
問 題 用 紙

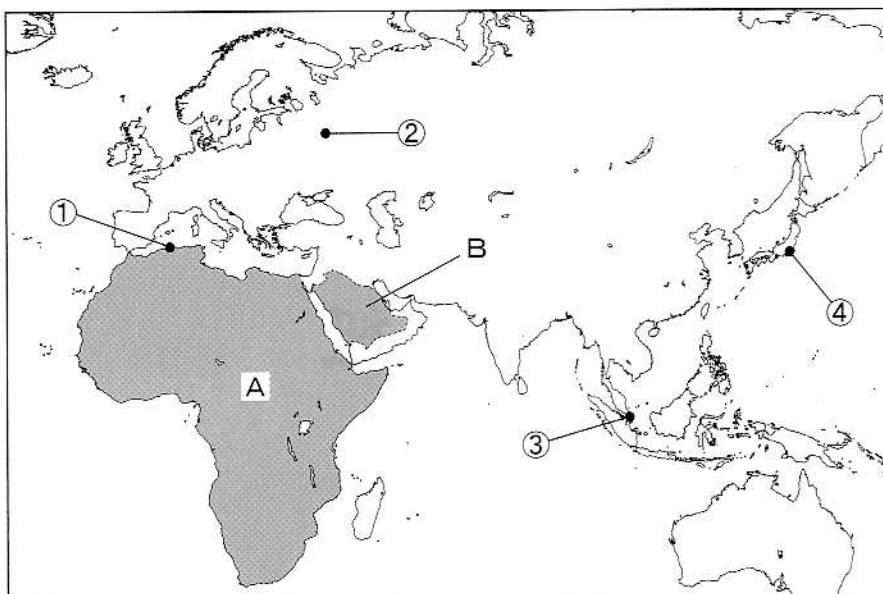
組 ・ 番 号	氏 名
3年 組 番	

1

次の1、2に答えなさい。

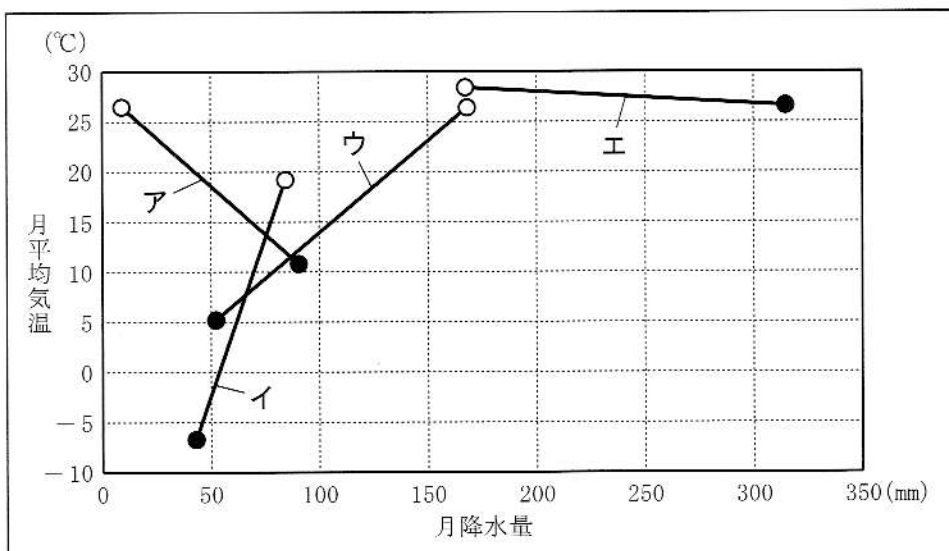
1 世界の諸地域について、次の(1)~(4)の問いに答えなさい。

資料1 世界地図



(1) 資料2のア~エは、資料1にある①~④のいずれかの都市について、月平均気温が最も低い月の降水量を●で、月平均気温が最も高い月の降水量を○でそれぞれ表し、線で結んだものである。資料1にある①の都市に当てはまるものを、ア~エの中から一つ選んで、その記号を書きなさい。

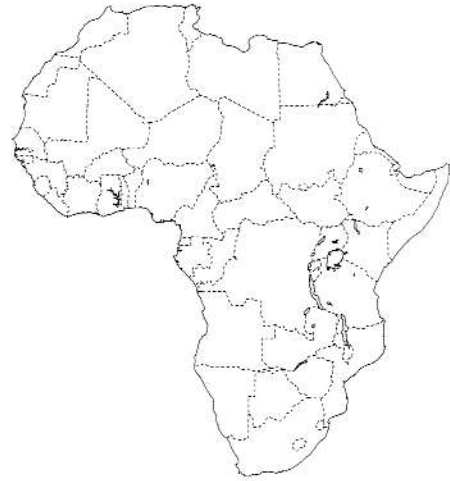
資料2 四つの都市の月平均気温が最も低い月の降水量、月平均気温が最も高い月の降水量



〔データブック オブ・ザ・ワールド〕2022年版、〔理科年表〕2022年版より作成

(2) 資料3は、資料1のAのアフリカ大陸の拡大図である。次の<メモ1>は、アフリカ大陸で見られる国境線についてまとめたものである。<メモ1>の に当てはまる内容を、アフリカ大陸の歴史的な背景にふれながら、「独立」の語を用いて書きなさい。

資料3 アフリカ大陸の拡大図



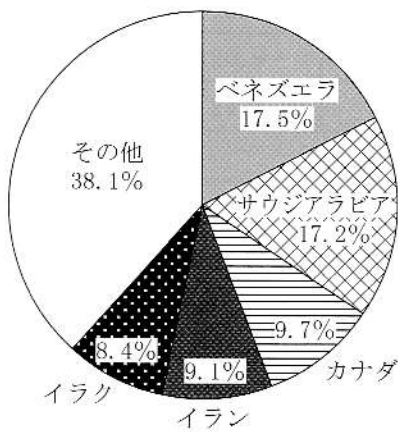
注) 国境は一部省略している。また、国境が確定していない所もある。

<メモ1>
 アフリカ大陸には、国境線の一部が緯線いきんや経線を利用して直線で引かれている国がある。このように、国境線の一部が直線で引かれているのは、 ためである。

(3) 資料1のBのサウジアラビアは、アジア州をさらに細かい地域に区分したとき、何アジアとよばれる地域に属しているか、書きなさい。また、次の<メモ2>は、サウジアラビアの資源についてまとめたものである。<メモ2>の 、 に当てはまる語の組み合わせとして適切なものを、下のア～カの中から一つ選んで、その記号を書きなさい。

<メモ2>
 資料1のBのサウジアラビアは、多くの油田がある に面しており、資料4のように、原油まいざうりゅうの埋蔵量が世界全体の約6分の1を占め、原油や原油から作られる石油製品の輸出によって大きな利益を得ている。また、1960年に結成された に加盟しており、他の産油国とともに原油価格や生産量を決めている。

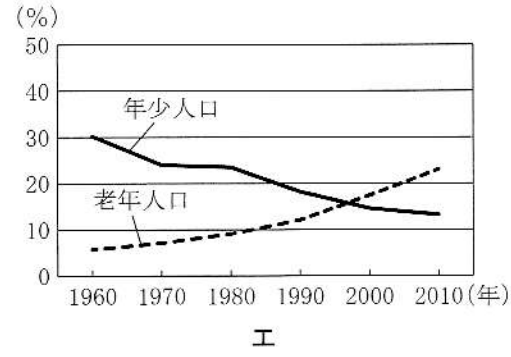
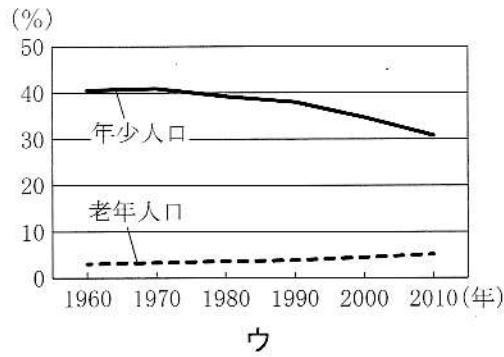
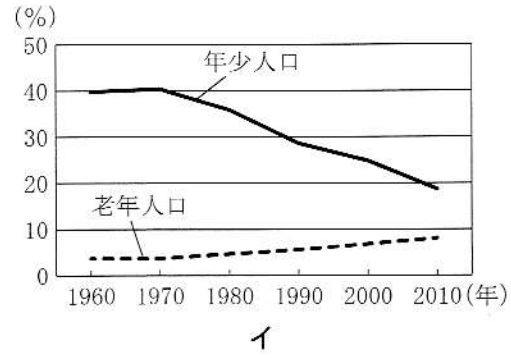
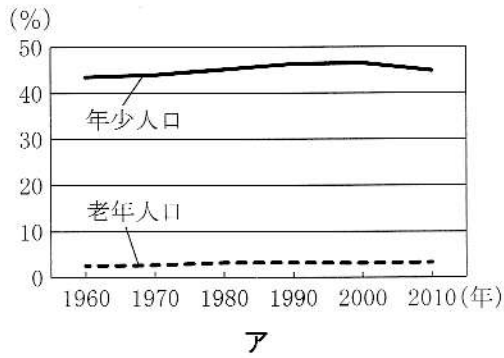
資料4 原油の国別埋蔵量の割合 (2020年)



- | | | |
|---|-------------------|-----------|
| ア | [a ペルシャ(ペルシア)湾] | b EU] |
| イ | [a ペルシャ(ペルシア)湾] | b OPEC] |
| ウ | [a ペルシャ(ペルシア)湾] | b ASEAN] |
| エ | [a ギニア湾] | b EU] |
| オ | [a ギニア湾] | b OPEC] |
| カ | [a ギニア湾] | b ASEAN] |

〔データブック オブ・ザ・ワールド|2022年版より作成〕

(4) 次のグラフは、日本、中国、インド、エチオピアのいずれかの国の、年少人口の割合(全人口に占める15歳未満人口の割合)と老年人口の割合(全人口に占める65歳以上人口の割合)の推移を表したものである。日本とインドに当てはまるグラフを、次のア～エの中からそれぞれ一つ選んで、その記号を書きなさい。



[総務省統計局「世界の統計」2022年版より作成]

3

花子さんのクラスでは、農業に関することがらについて、班ごとにテーマを設定し、調べる学習を行いました。次の1～3に答えなさい。

- 1 1班では、「日本の農業の現状」というテーマを設定し、次のようなくメモ>を作成しました。下の(1)～(3)の問いに答えなさい。

<メモ> 日本の稲作と果樹栽培

- ・稲作は全国的に行われているが、特に北海道、東北地方、北陸地方の平野部でさかんである。米の収穫量が全国で最も多い新潟県では、a越後平野を中心に稲作が行われている。
- ・果樹栽培は、川が山間部から平野や盆地^{ぼんち}に出た所に土砂が積もってできた あ などで行われている。また、南北に細長い日本列島では、各地の気候に合わせて、様々な果実が栽培されている。

- (1) 下線部 a について、この地域における1月の気候の特色について述べた文として適切なものを、次のア～エの中から一つ選んで、その記号を書きなさい。

- ア 北西からの季節風の影響で降水量が少ない。
- イ 北西からの季節風の影響で降水量が多い。
- ウ 南東からの季節風の影響で降水量が少ない。
- エ 南東からの季節風の影響で降水量が多い。

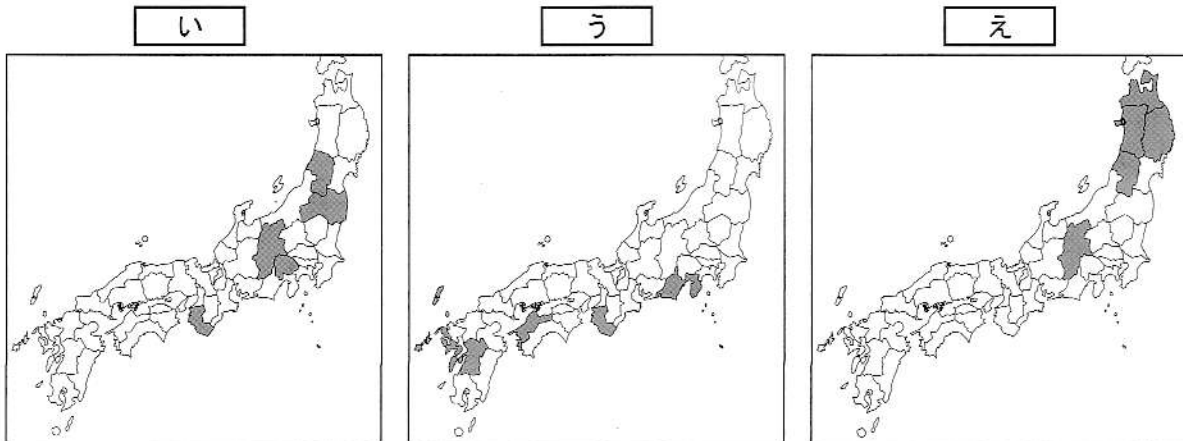
- (2) <メモ>の あ に当てはまる地形の名称を書きなさい。

- (3) 花子さんは、三つの果実の収穫量が多い都道府県について調べ、資料1を作成しました。

資料1の い ～ え には、りんご、もも、みかんのいずれかが当てはまります。

い ～ え の組み合わせとして適切なものを、下のア～カの中から一つ選んで、その記号を書きなさい。

資料1 三つの果実の収穫量が多い上位5位までの都道府県(2020年産)

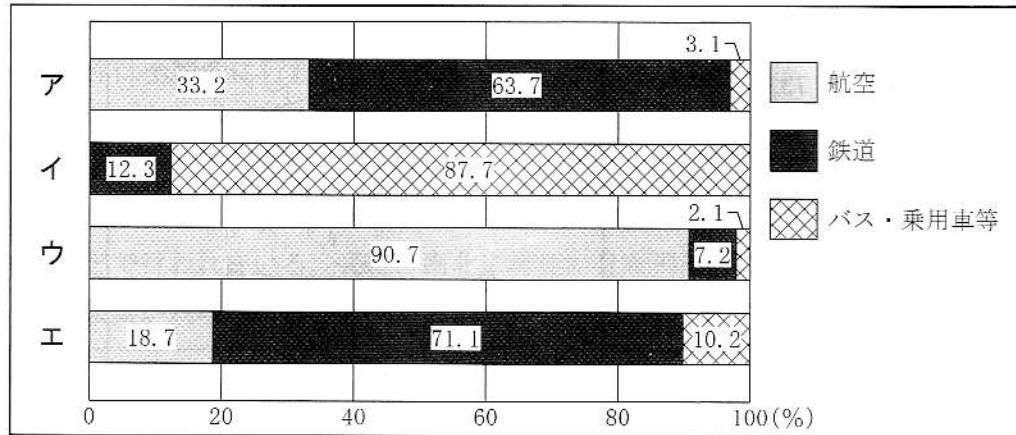


[「データでみる県勢」2022年版より作成]

- | | |
|---------------------|---------------------|
| ア [いりんご うもも えみかん] | イ [いりんご うみかん えもも] |
| ウ [いもも うりんご えみかん] | エ [いもも うみかん えりんご] |
| オ [いみかん うりんご えもも] | カ [いみかん うもも えりんご] |

- (3) 資料8は、首都圏(東京都、埼玉県、千葉県、神奈川県)の1都3県から四つの府県への移動における交通機関別の利用割合を示したものである。資料8のア～エは、大阪府、山梨県、広島県、福岡県のいずれかである。山梨県に当てはまるものを、ア～エの中から一つ選んで、その記号を書きなさい。また、山梨県の県庁所在地名を書きなさい。

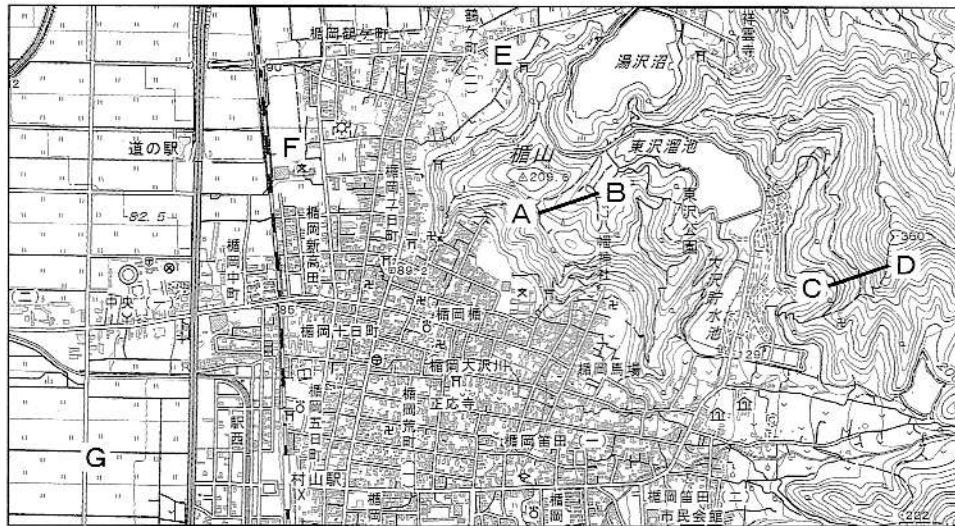
資料8 首都圏から四つの府県への移動における交通機関別の利用割合(2015年度)



[国土交通省「2015年度 都道府県間流動表」より作成]

- (4) 資料9はある地域の地形図である。資料9から読み取れるものとして適切でないものを、下のア～エの中から一つ選んで、その記号を書きなさい。

資料9



[国土地理院発行2万5千分の1地形図「橋岡」より作成]

- ア A-B間とC-D間では、C-D間の方が、傾斜が急である。
 イ 村山^{むらやま}駅からE付近の神社までの地形図上の長さを約6cmとすると、実際の距離は約1500mである。
 ウ F付近の小・中学校から見て市役所は南東の方角にある。
 エ G付近には田が見られる。

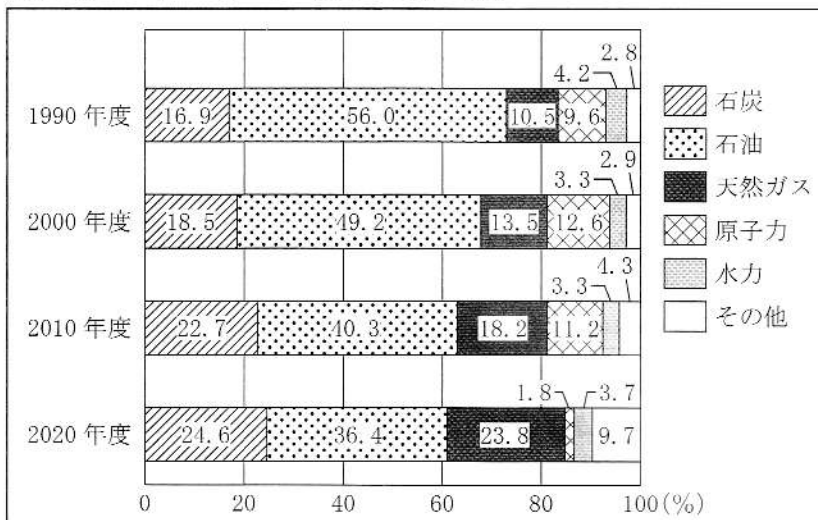
(5) 資料10～資料12は、日本の資源・エネルギーに関するものである。これらの資料から読み取れるものとして適切なものを、下のア～オの中から二つ選んで、その記号を書きなさい。

資料10 日本のエネルギー供給量の推移

	供給量 (PJ)
1990年度	19667
2000年度	22709
2010年度	21995
2020年度	17965

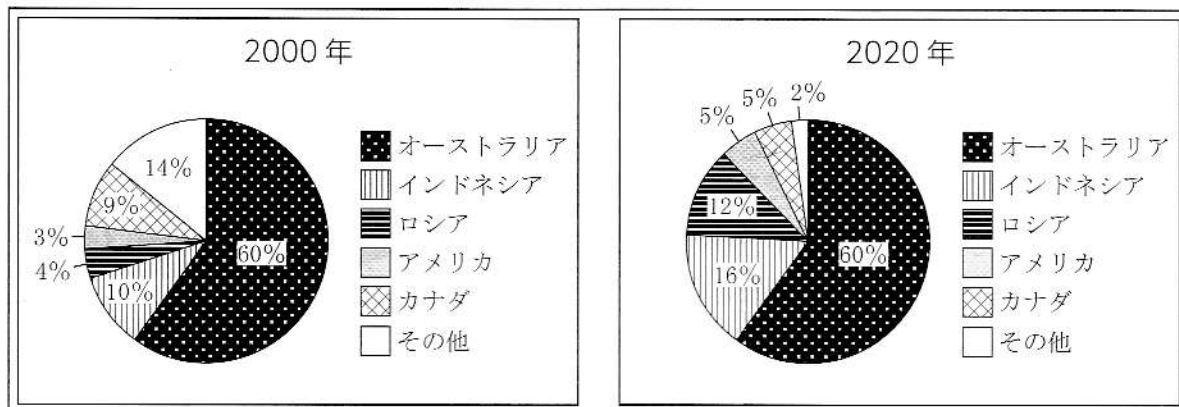
注) PJ(ペタジュール)は仕事量・エネルギーの単位である。

資料11 日本のエネルギー供給量の内訳の推移



[資料10、資料11は資源エネルギー庁ホームページ、「日本国勢図会」2021/22年版より作成]

資料12 日本の石炭の輸入量の国別割合の変化(2000年、2020年)



[「日本国勢図会」2021/22年版より作成]

- ア 2010年度と2020年度を比べると、日本のエネルギー供給量は減少し、日本のエネルギー供給量に占める原子力の割合も減少している。
- イ 1990年度、2000年度はともに、日本のエネルギー供給量に占める石油の割合が、石炭の割合の3倍以上である。
- ウ 1990年度と2020年度を比べると、日本のエネルギー供給量に占める天然ガスの割合は2倍以上に増加し、2020年度は天然ガスの割合が石炭の割合を上回っている。
- エ 2020年は、日本の石炭の輸入量に占めるアメリカとカナダの割合の合計が、ロシアの割合を上回っている。
- オ 2000年と2020年を比べると、日本の石炭の輸入量に占めるインドネシアの割合は1.5倍以上に増加した。

2

ある中学校の社会科の授業で、「それぞれの時代にはどのような特色があるのだろうか」という課題で、班ごとにテーマを設定し、学習しました。次の1、2に答えなさい。

- 1 1班では、「各時代に起こった戦乱」というテーマを設定し、話し合いました。下の(1)~(6)の問いに答えなさい。

良子：今までに授業で学習したことをもとに、古代から近世にかけて日本で起こった戦乱についてまとめてみよう。

太郎：弥生時代には、土地や水の利用をめぐってむらどうしの戦いが起こり、やがて周辺のむらをまとめる国ができて、a 人々を支配する有力者や王が現れたんだ。

雪子：b 平安時代になると、武士が成長して武士団を作り、各地で反乱が起こったよ。

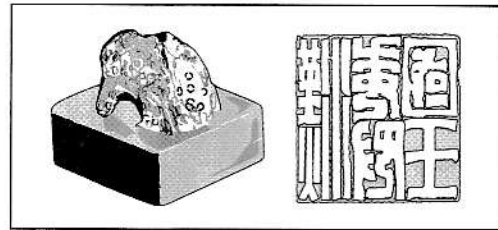
次郎：鎌倉時代には、戦乱に加えてききんや災害が続いたよ。また、c 幕府をたおそうとする動きも見られたよね。

良子：さらに、室町時代には、約60年にわたって南朝と北朝の勢力が争ったほか、d 応仁の乱が起こり、京都の大半が焼け野原となったよ。

太郎：その後、e 戦国大名たちが領国支配の拡大を目指して争う戦国時代が始まったけれど、1590年にf 豊臣秀吉が全国統一を実現したね。

- (1) 下線部 a について、資料1は、1世紀の中ごろに九州北部にあった倭の奴国の王が、中国に使いを送り、皇帝から与えられたとされる金印を描いたものである。この金印を与えたころの中国の様子について述べた文として適切なものを、次のア~エの中から一つ選んで、その記号を書きなさい。

資料1 江戸時代に志賀島で発見された金印



- ア 秦の始皇帝は、北方の遊牧民の侵入を防ぐために万里の長城を築いた。
 イ 黄河の流域に殷(商)がおり、優れた青銅器が作られた。
 ウ 南北に分かれていた国内を隋が統一し、大帝國を造り上げた。
 エ 漢(後漢)では、国の教えとして儒学(儒教)が重んじられた。

- (2) 下線部 b について、次のⅠ~Ⅲは、平安時代に活躍した人物に関するできごとである。それらを年代の古い順に並べたものを、下のア~カの中から一つ選んで、その記号を書きなさい。

- Ⅰ 藤原道長が摂政となり、天皇のそばで政治を動かした。
 Ⅱ 菅原道真が、遣唐使の派遣の停止を訴えて認められた。
 Ⅲ 平清盛が、平治の乱で源義朝を破って勢力を広げた。

- ア [Ⅰ-Ⅱ-Ⅲ] イ [Ⅰ-Ⅲ-Ⅱ] ウ [Ⅱ-Ⅰ-Ⅲ]
 エ [Ⅱ-Ⅲ-Ⅰ] オ [Ⅲ-Ⅰ-Ⅱ] カ [Ⅲ-Ⅱ-Ⅰ]

- (3) 次郎さんは、下線部 c の動きに興味をもち、自分で調べたことを<メモ1>のように整理しました。<メモ1>の **あ** に当てはまる内容を、「朝廷」の語を用いて書きなさい。

<メモ1> 後鳥羽上皇と後醍醐天皇の挙兵		
	後鳥羽上皇	後醍醐天皇
挙兵した時期	13世紀前半	14世紀前半
目的と行動	あ ため、鎌倉幕府をたおそうと兵を挙げた。	
結果	幕府軍に敗れ、隠岐(島根県)に追放された。	幕府をたおし、天皇中心の新しい政治を始めた。

- (4) 下線部 d について、次の文中の **い** に当てはまる語を、下のア～エの中から一つ選んで、その記号を書きなさい。

応仁の乱によって幕府の権力が失われていく中、地方では民衆が力を伸ばしていった。加賀(石川県)では、1488年に **い** の信者たちが団結して一揆を起し、守護大名をたおして約100年にわたり自治を行った。

- ア 真言宗 イ 浄土真宗(一向宗) ウ 日蓮宗(法華宗) エ 天台宗

- (5) 下線部 e について、資料2は、戦国大名がそれぞれの領地を治めるために定めた、独自の法律を示したものである。このような法律を何というか、書きなさい。

資料2 戦国大名が定めた法律(部分要約)

- 一 本拠である朝倉館のほか、国内に城を構えてはならない。(朝倉孝景条々)
- 一 けんかをした者は、どのような理由があろうと処罰する。
- 一 許可を得ないで他国へ贈り物や手紙を送ることは、すべて禁止する。(甲州法度之次第)

- (6) 下線部 f について、次の文中の **う** に共通して当てはまる語を書きなさい。

豊臣秀吉は、ものさしの長さやますの大きさを統一し、太閤検地を行って、全国の田畑の面積や土地のよしあしを調べ、予想される生産量を、米の体積である **う** で表した。これにより、農民(百姓)は、土地を耕作する権利を保障されるかわりに、**う** に応じた年貢を納める責任を負い、土地から離れることができなくなった。また、武士は、与えられた領地の **う** に応じた軍役を負担することとなった。

2 2班では、「日本と関わりが深い外国人」というテーマを設定し、カード1～カード4を作成しました。下の(1)～(4)の問いに答えなさい。

カード1 鑑真かんじん
唐の僧そうであった鑑真は、日本にわたろうとして何度も航海に失敗し、視力を失いながらも、753年に来日して正しい仏教の教えを広めた。

カード2 ザビエル
イエズス会の宣教師であったザビエルは、1549年に鹿児島に上陸し、g 日本にキリスト教を伝え、2年あまりにわたって布教活動を行った。

カード3 ペリー
アメリカの東インド艦隊司令長官かんたいであったペリーは、1853年、浦賀うらがに来航して江戸幕府に開国を要求し、翌年、再び来航して日米和親条約を結んだ。

カード4 マッカーサー
h GHQ(連合国軍最高司令官総司令部)の最高司令官として、1945年に来日したマッカーサーは、日本政府に民主化を進める政策の実施じっしを指令した。

(1) カード1について、次の文は、鑑真が来日した時代の文化について述べたものである。文中の **え** に当てはまる語を書きなさい。また、**お**、**か** に当てはまる語の組み合わせとして適切なものを、下のア～カの中から一つ選んで、その記号を書きなさい。

この時代には、国家のしくみが整い、神話や伝承などを基にした「古事記」と「日本書紀」という歴史書や、地方の自然、産物などを国ごとに記した「**え**」がつくられた。
また、天皇や貴族、農民などの和歌を広く集めた **お** がまとめられた。資料3は、**お** に収められた和歌の一つで、九州北部の守りについた **か** とよばれる兵士がよんだものである。

資料3
から衣 すそに取りつき 泣く子らを
置きてぞ来ぬや 母なしにして

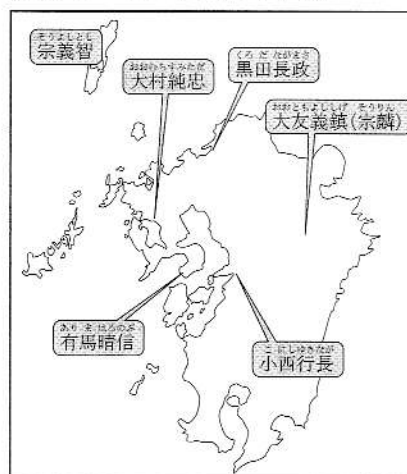
(すそに取りついて泣く子どもたちを置いたまま来てしまった。その子の母もないのに。)

- | | | | | | | | |
|---|---------------|---|-----------------------------|---|-------------|---|-------|
| ア | [お 「古今和歌集」] | か | 蝦夷 <small>えみし</small>] | イ | [お 「万葉集」] | か | 蝦夷] |
| ウ | [お 「古今和歌集」] | か | 屯田兵 <small>とんでんへい</small>] | エ | [お 「万葉集」] | か | 屯田兵] |
| オ | [お 「古今和歌集」] | か | 防人 <small>さきもり</small>] | カ | [お 「万葉集」] | か | 防人] |

- (2) 一郎さんは、カード2の下線部gについて調べる中で、資料4を見つけ、<メモ2>を作成しました。<メモ2>の に当てはまる内容を、「南蛮貿易」、「大名」の語を用いて書きなさい。

<メモ2>
 ザビエルによってキリスト教が伝えられると、西日本を中心にキリスト教が広まっていった。この理由の一つとして、資料4から、 ことが考えられる。

資料4 主なキリシタン大名

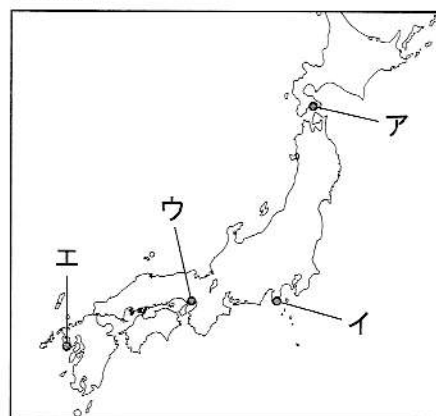


- (3) 花子さんは、カード3のできごとの後に、アメリカ総領事のハリスが来日したことを知り、<メモ3>を作成しました。日米和親条約で開かれた港のうち、アメリカの領事が置かれた場所を、資料5のア～エの中から一つ選んで、その記号を書きなさい。

また、<メモ3>の に当てはまる人物名を書きなさい。

<メモ3>
 アメリカ総領事として日本に来たハリスは、通商条約を結んで貿易を行うことを求めた。幕府は朝廷の同意を得て条約を結ぼうとしたが、朝廷は調印を認めなかった。大老の は、1858年に清がイギリス・フランス連合軍に敗れたことを知ると、朝廷の許可を得ないまま、日米修好通商条約を結んだ。

資料5



- (4) カード4の下線部hについて、GHQが日本に設置された1945年から日本が独立を回復した1952年の間に起きた世界のできごとを、次のア～エの中から一つ選んで、その記号を書きなさい。

- ア 北朝鮮が武力統一を目指して韓国に侵攻し、朝鮮戦争が始まった。
- イ パレスチナ問題を背景に、第四次中東戦争が起こった。
- ウ アメリカの大統領とイギリスの首相が大西洋憲章を発表した。
- エ ベルリンの壁が取り壊され、東西ドイツが統一された。

3

花子さんのクラスでは、農業に関することがらについて、班ごとにテーマを設定し、調べる学習を行いました。次の1～3に答えなさい。

- 1 1班では、「日本の農業の現状」というテーマを設定し、次のようなくメモ>を作成しました。下の(1)～(3)の問いに答えなさい。

<メモ> 日本の稲作と果樹栽培

- ・稲作は全国的に行われているが、特に北海道、東北地方、北陸地方の平野部でさかんである。米の収穫量が全国で最も多い新潟県では、a ^{えちご}越後平野を中心に稲作が行われている。
- ・果樹栽培は、川が山間部から平野や盆地に出た所に上砂が積もってできた あ などで行われている。また、南北に細長い日本列島では、各地の気候に合わせて、様々な果実が栽培されている。

- (1) 下線部 a について、この地域における1月の気候の特色について述べた文として適切なものを、次のア～エの中から一つ選んで、その記号を書きなさい。

- ア 北西からの季節風の影響で降水量が少ない。
- イ 北西からの季節風の影響で降水量が多い。
- ウ 南東からの季節風の影響で降水量が少ない。
- エ 南東からの季節風の影響で降水量が多い。

- (2) <メモ>の あ に当てはまる地形の名称を書きなさい。

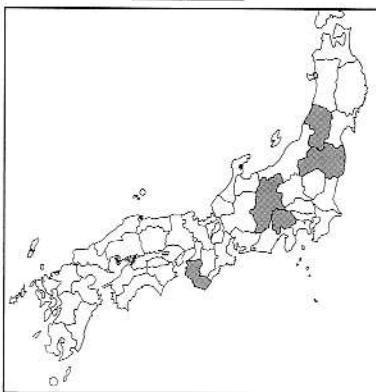
- (3) 花子さんは、三つの果実の収穫量が多い都道府県について調べ、資料1を作成しました。

資料1の い ～ え には、りんご、もも、みかんのいずれかが当てはまります。

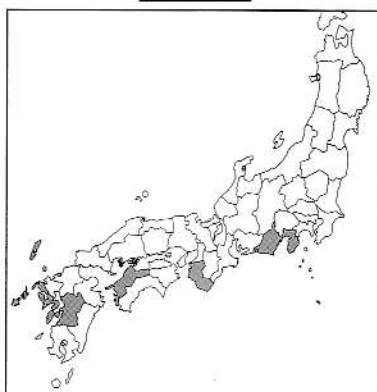
い ～ え の組み合わせとして適切なものを、下のア～カの中から一つ選んで、その記号を書きなさい。

資料1 三つの果実の収穫量が多い上位5位までの都道府県(2020年産)

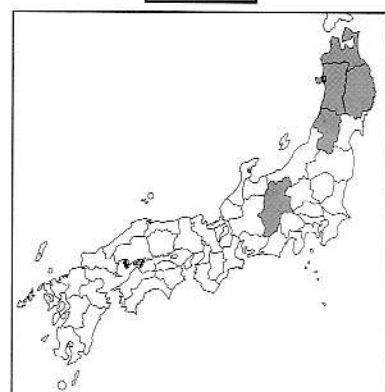
い



う



え



〔「データでみる県勢」2022年版より作成〕

- ア [いりんご うもも えみかん] イ [いりんご うみかん えもも]
- ウ [いもも うりんご えみかん] エ [いもも うみかん えりんご]
- オ [いみかん うりんご えもも] カ [いみかん うもも えりんご]

- 2 2班では、「近世以降の日本の農業」というテーマを設定し、話し合いました。下の(1)～(3)の問いに答えなさい。

洋子：江戸時代には、人口の大部分を百姓が占めていたそうだよ。こうした百姓は、**b**農村に住み、自給自足に近い生活をしながら年貢を納めていたよ。
 一郎：明治時代になると、農業技術の研究などを行う国立農事試験場が開設されたほか、**c**輸出用の生糸の生産に必要なまゆを作るための養蚕がさかんになったんだって。
 雪子：戦後には、民主化の一環として、**d**農地改革が進められたね。

- (1) 下線部 **b** について、江戸時代の農村の様子について述べた文として適切でないものを、次のア～エの中から一つ選んで、その記号を書きなさい。
- ア 牛馬を利用した耕作や、米と麦の二毛作が始まった。
 - イ 幕府や藩により、新田開発がさかんに進められた。
 - ウ 綿、あぶらな(菜種)などの商品作物が作られた。
 - エ 千歯こきや備中ぐわなどの農具が使われるようになった。

- (2) 下線部 **c** について、資料2は、生糸を増産するため、フランスの技術や機械を導入して、1872年、群馬県に開設された富岡製糸場の写真である。「富国強兵」をかかげた明治政府が、欧米の進んだ技術や機械を取り入れ、近代的な産業の育成を目指した政策を何というか、書きなさい。

資料2 富岡製糸場



[画像提供：富岡市]

また、生糸がさかんに生産された明治時代の社会や文化について述べた文として適切なものを、次のア～エの中から一つ選んで、その記号を書きなさい。

- ア 吉野作造が、一般民衆の意向を政治に反映する民本主義を唱えた。
- イ 間宮林蔵が、北方を探検して樺太が島であることを確認した。
- ウ 津田梅子が、女子留学生として岩倉使節団とともに海外にわたった。
- エ 川端康成が、日本人の小説家として初めてノーベル文学賞を受賞した。

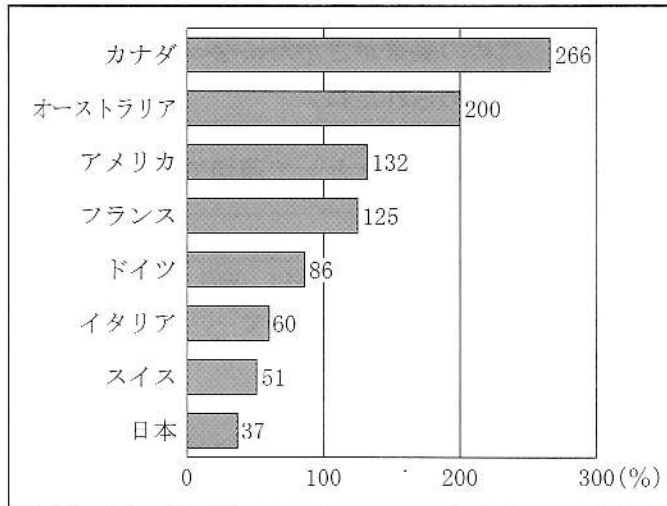
- (3) 下線部 **d** について、次の文中の **お** ～ **き** に当てはまる語を、下のア～ウの中からそれぞれ一つ選んで、その記号を書きなさい。

農地改革では、政府が **お** の農地を強制的に買い上げて、**か** に安く売りわたした。これにより、**き** が大幅に増加した。

- ア 小作人 イ 自作農 ウ 地主

3 3班では、「食料自給率から見た日本と世界」というテーマを設定し、調べていく中で、資料3～資料5を見つけ、それらの資料をもとに話し合いました。あとの(1)～(6)の問いに答えなさい。

資料3 主な国の食料自給率
(日本は2018年度、それ以外は2018年)



[農林水産省資料より作成]

資料4 主な国の森林面積と農地面積
(2018年)

国名	森林面積 (万 ha)	農地面積 (万 ha)
カナダ	34700	5976
オーストラリア	13401	37808
アメリカ	30980	40581
フランス	1709	2866
ドイツ	1142	1830
イタリア	946	1245
スイス	126	154
日本	2494	442

[農林水産省資料より作成]

資料5 日本の米、野菜、牛肉、鶏卵、魚介類の自給率の変化

品目	自給率 (%)		
	1970年	1995年	2020年
米	106	104	97
野菜	99	85	80
牛肉	90	39	36
鶏卵	97	96	97
魚介類	102	57	55

[令和2年度 食料需給表]より作成]

優子：資料3中の8か国のうち、e 食料自給率が高い国ではどのような農業が行われているのかな。

太郎：カナダや f フランスでは小麦の栽培が、オーストラリアでは牛や羊の飼育がさかんだね。また、アメリカでは、地域によって気候などの自然条件が異なるため、それぞれの環境に適した農作物が栽培されているよ。このことを というんだ。

良子：その一方で、日本の食料自給率が低いのはなぜだろう。

次郎：g 険しい山地が多く、山がちな地形なので、農地面積が少ないからだと思うな。資料4から、日本の森林面積は、 の森林面積の約2.2倍であるのに対して、 の農地面積は、日本の農地面積の約 倍であることがわかるよ。

優子：なるほど。でも、日本各地では農業がさかんに行われているよね。h 日本の食料別の自給率についても調べてみようよ。

(1) 下線部 e について、資料 3 中の 8 か国のうち、食料自給率が 100%を超えている 4 か国の共通点として適切なものを、次のア～エの中から一つ選んで、その記号を書きなさい。

- ア 国土すべてが北半球に位置している。
- イ 日本よりも総人口が少ない。
- ウ 日本よりも国土面積が大きい。
- エ 国土すべてが東経の範囲に位置している。

(2) 下線部 f について、18 世紀から 20 世紀までのフランスに関する次のア～エのできごとを、年代の古い順に左から並べて、その記号を書きなさい。

- ア フランス革命が起こり、人権宣言が発表された。
- イ イギリス・ロシアと三国協商を結んだ。
- ウ パリ講和会議が開かれ、ベルサイユ条約が結ばれた。
- エ ロシア・ドイツとともに、日本に対して三国干渉を行った。

(3) 会話文中の に当てはまる語を書きなさい。

(4) 下線部 g について、世界には、ヨーロッパからインドネシアまでのびる造山帯と、太平洋を取り囲むように連なる造山帯の、二つの造山帯がある。このうち、日本列島が位置している造山帯の名称を書きなさい。

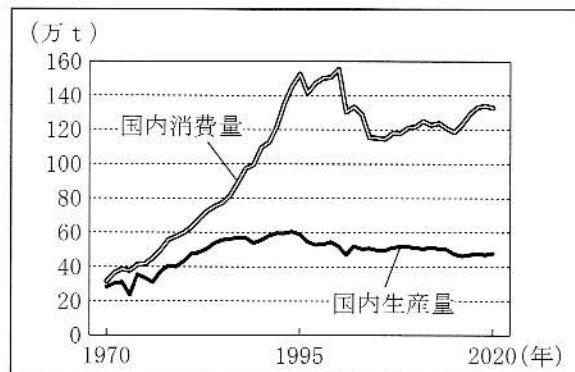
(5) 会話文中の 、 に当てはまる語と数字の組み合わせとして適切なものを、次のア～エの中から一つ選んで、その記号を書きなさい。

- ア [け フランス こ 6.5] イ [け フランス こ 4.1]
- ウ [け ドイツ こ 6.5] エ [け ドイツ こ 4.1]

(6) 下線部 h について、資料 6 は、資料 5 中の五つの品目のいずれかの国内生産量と国内消費量について、1970 年以降の推移を示したものである。資料 6 で示した品目として適切なものを、次のア～オの中から一つ選んで、その記号を書きなさい。

- ア 米 イ 野菜
- ウ 牛肉 エ 鶏卵
- オ 魚介類

資料 6



〔令和 2 年度 食料需給表〕より作成