

令和 3 年度 学力診断のためのテスト

中学校第 1 学年社会

組

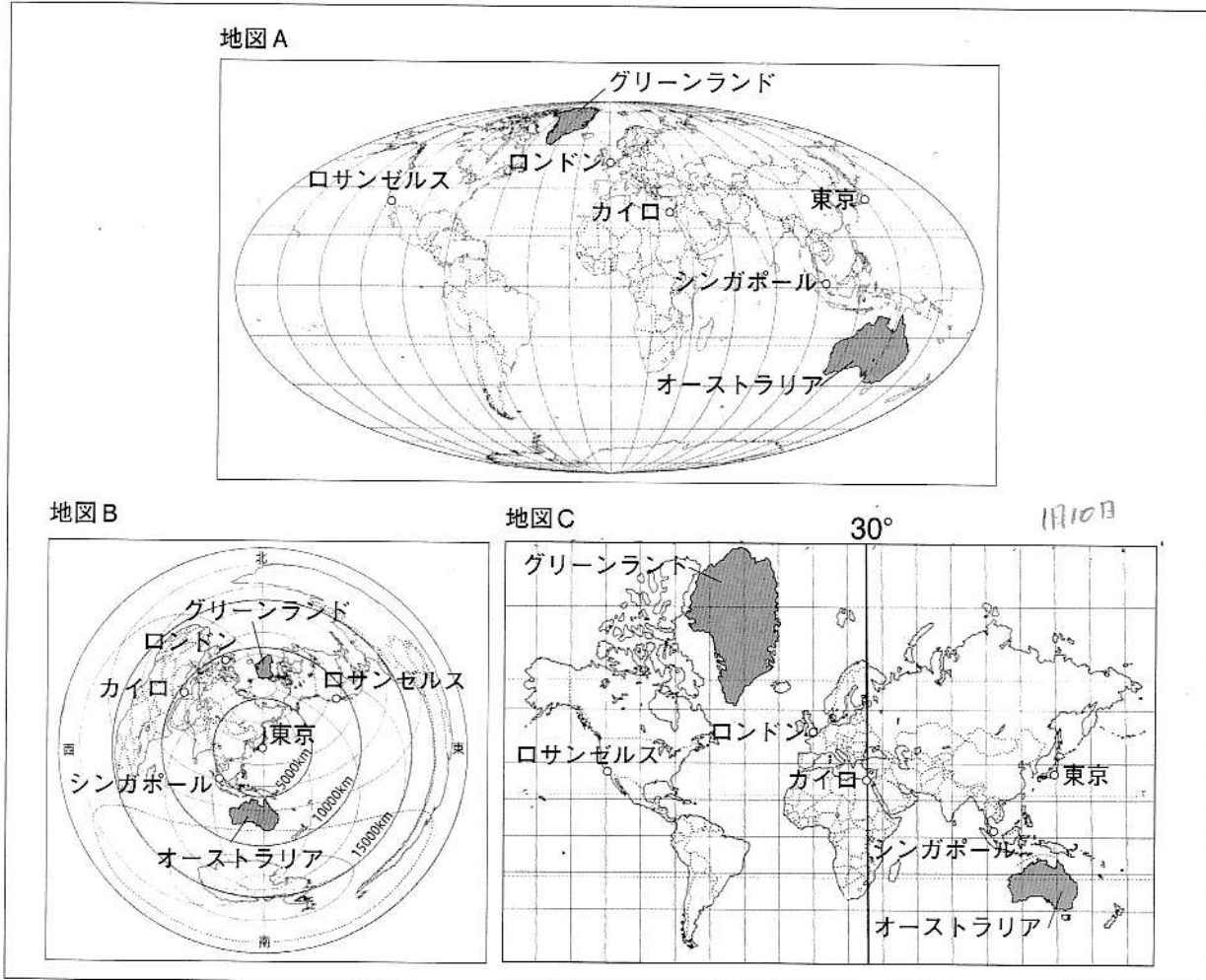
番

名前

(答えは、解答用紙に記入しなさい。)

1 資料を見て、次の〔1〕～〔4〕の問いに答えなさい。

資料 1 さまざまな世界地図



〔1〕世界地図は、使う目的に応じてさまざまなものが作られてきました。資料1の地図Aの説明をしている文章はどれですか。次のア～ウから一つ選び、その記号を書きなさい。

ア この地図は、緯線と経線が直角に交わっています。昔は船で海を渡る際に使われていました。世界の国々の位置を見つけるのに便利ですが、赤道から離れるほど、実際の面積より大きく表されます。

イ この地図は、面積が正しく表されています。その国の広さを確認するのに便利です。グリーンランドとオーストラリア大陸の面積を比べるとオーストラリア大陸の方が大きいことがわかります。

ウ この地図は、中心からの距離と方位が正しく表され、航空図として使用されます。東京から見てシンガポールは南西に約 5000 kmの位置にあることがわかります。

①

〔2〕みゆきさんたちは資料1の3つの地図をもとに、距離や方位について話しています。会話文のX、Yに入る語句の組み合わせとして正しいものを、次のア～エから一つ選び、その記号を書きなさい。



3つの地図を見比べると東京から見てロサンゼルスがどの方角にあるかよくわからないね。



ある1つの地図を見ると東京から見てロサンゼルスは、およそ（ X ）の方角にあることがわかるよ。



地図の種類によって、距離や方位の表し方はいろいろあるんだよ。東京からロサンゼルスに最短距離で行くには、（ X ）の方向に行けばいいんだよ。飛行機で行くとなると、最初に（ Y ）の上空を飛行することになるね。

	X	Y
ア	西	ユーラシア大陸
イ	西	太平洋
ウ	北東	ユーラシア大陸
エ	北東	太平洋

②

〔3〕ゆうきさんたちは資料1の3つの地図をもとに、時差について話しています。会話文の  には何月何日何時が入るか。午前、午後を必ずつけて書きなさい。



カイロはエジプトにあるけど、エジプトといえば世界遺産のピラミッドだよな。検索してみたら夜の闇に浮かぶピラミッドも素敵だけど、昼間のピラミッドも迫力がありそうだよ。



日本から飛行機に乗って昼間にピラミッドを見るためには、日本とカイロの時差や飛行時間を考える必要があるね。時差を調べるためにはどの地図を見ればいいのか。

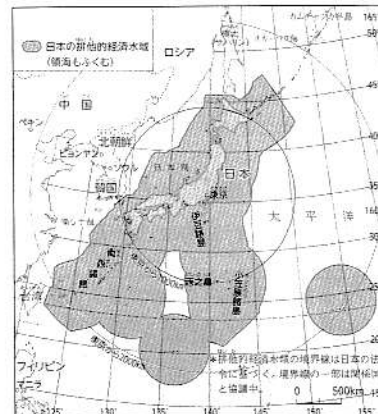
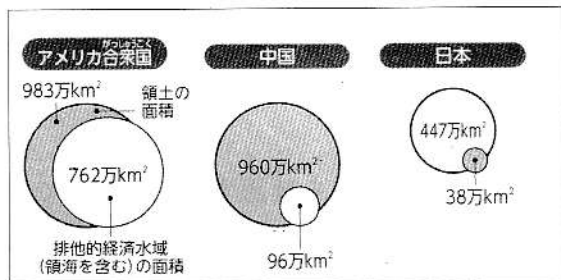


時差を調べるためには地図Cを見るとわかりやすいよ。時差は経度15度ごとに1時間生じるね。日本の標準時子午線は東経135度で、日本は現在1月10日の午後3時だから、カイロは  になるよ。

③

〔4〕ゆうとさんは、各国の領土面積と排他的経済水域の関係について調べました。調べてみると日本は比較的領土面積が小さいのにも関わらず、排他的経済水域が領土の10倍以上になっていることが資料2からわかりました。資料3からその理由を書きなさい。

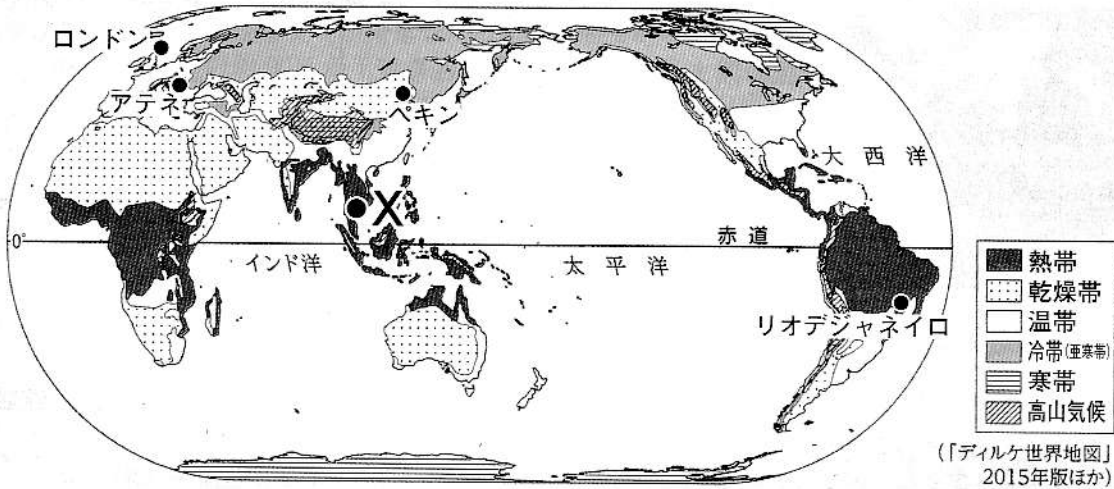
資料2 国々の領土と排他的経済水域の面積 資料3 日本の領域と排他的経済水域



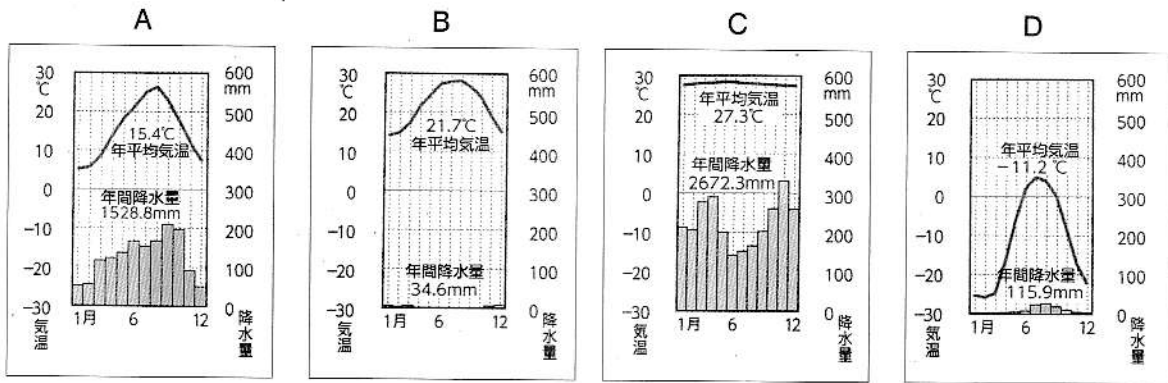
④

2 資料を見て、〔1〕～〔3〕の問いに答えなさい。

資料1 世界の気候区分



資料2 世界各地の気温と降水量のグラフ



〔1〕 資料1のXの都市の気温と降水量を表したグラフを資料2のA～Dから一つ選び、その記号を書きなさい。また、Xの都市の気候帯の説明として正しいものを、次のア～エから一つ選び、その記号を書きなさい。

- ア 夏と冬の気温差が大きい地域です。冬の寒さがとても厳しいですが、夏には気温が上がるため、樹木が育ち、針葉樹の森林が広がっています。
- イ 赤道を中心に広がっていて、一年を通じて気温が高い特徴があります。赤道付近では、スコールといわれる一時的な強い雨が降る日が多くあります。
- ウ 雨が少なく乾燥した地域が広がっています。乾燥が著しい地域では砂漠が広がり、自然のわき水や井戸などで水が得られるオアシスには人々が集まります。
- エ 季節の変化がはっきりしています。日本のように、雨が多く、季節による気温や降水量の変化の大きい気候などがあります。

⑤	気温と降水量のグラフ	
	気候帯の説明	

〔2〕資料3はある地域に住む人々の民族衣装とその説明です。この地域に住む人々の代表的な住居を資料4のア～エから一つ選び、その記号を書きなさい。

資料3 高地に住む人々



この地域に住む人々は、高い山脈に囲まれ、標高が高いところで生活しています。高地の寒さと強い紫外線を防ぐために、人々はアルパカなどの毛で作った衣服を重ね着して、帽子をかぶっています。

資料4 各地域の住居


ア 石や日干しレンガを使った住居



イ 永久凍土に熱が伝わらないような高床の住居



ウ 熱や湿気がこもらないような住居



エ 草原の中の移動式住居



⑥

〔3〕次の文章は、資料1に示されている4つの都市のうちいずれかの都市について説明しています。この都市を資料1から選び、都市名を書きなさい。

ブラジルは日本から見て地球の反対側にあり、南アメリカ州で最も大きな面積を有しています。また、ブラジルには約200万人の日系人が暮らしているといわれ、多くの日本の文化が浸透しています。2021年には東京で夏季オリンピック・パラリンピックが開催されましたが、この都市では2016年に夏季オリンピック・パラリンピックが開催されました。



ブラジルの日本人街での七夕まつり

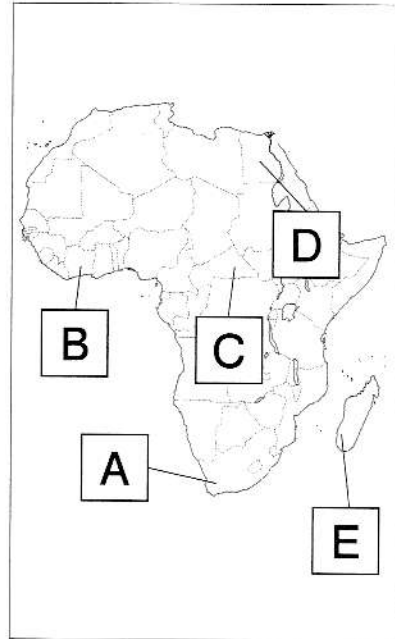
⑦

3 資料を見て、〔1〕～〔3〕の問いに答えなさい。

かずきさんの活動記録

7月10日 エジプト	この国は国土の大部分が砂漠だが、かつて、高度な文明が発達したことで有名である。人口の約90%がイスラム教を信仰している。今回はナイル川に造られたダムによる塩害などの環境への影響を調査した。 ※塩害…農地に塩分が混じり、農作物の生長に害が生じること。
7月20日 コートジボワール	この国はカカオ豆の輸出量が世界1位である。赤道に近く、ギニア湾に面している。また、気温が高く降水量が多い。アフリカの気候に適し、病気や乾燥に強くなるように品種改良された「ネリカ米」という稲の栽培について、青年海外協力隊と意見交換をした。
7月30日 南アフリカ共和国	この国は資源に恵まれており、マンガンやクロムといったレアメタルの産出についての話を聞いた。また、この国の首都は日本と同じ気候帯に属している。ただし、南半球に位置するため、季節が日本とは逆である。

資料1 アフリカの地図



〔1〕中学生のなおとさんは、ボランティアとしてアフリカで活動する大学生のかずきさんの活動記録を読みました。なおとさんは、かずきさんが訪問した国の位置を資料1で確認しています。資料1のA～Eから、かずきさんが訪問した3か国を選び、訪れた順に並べて、その記号を書きなさい。

⑧  →  →

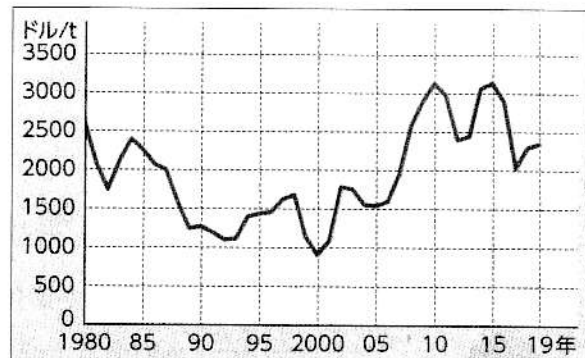
〔2〕なおとさんは、コートジボワールの輸出品目とカカオ豆の国際価格の変動に関する資料を集め、ノートにまとめました。ノートの  にあてはまる文を、「収入」という語句を使って書きなさい。

資料2 コートジボワールの主な輸出品

順位	品目	輸出総額に占める割合 (%)
1	カカオ豆	28.1
2	カカオ調整品	10.8
3	石油製品	9.7
4	金	8.5
5	ゴム	7.1

(2019年 コートジボワール税関総局資料より)

資料3 カカオ豆の国際価格の変動



(IMF資料より)

なおとさんのノート

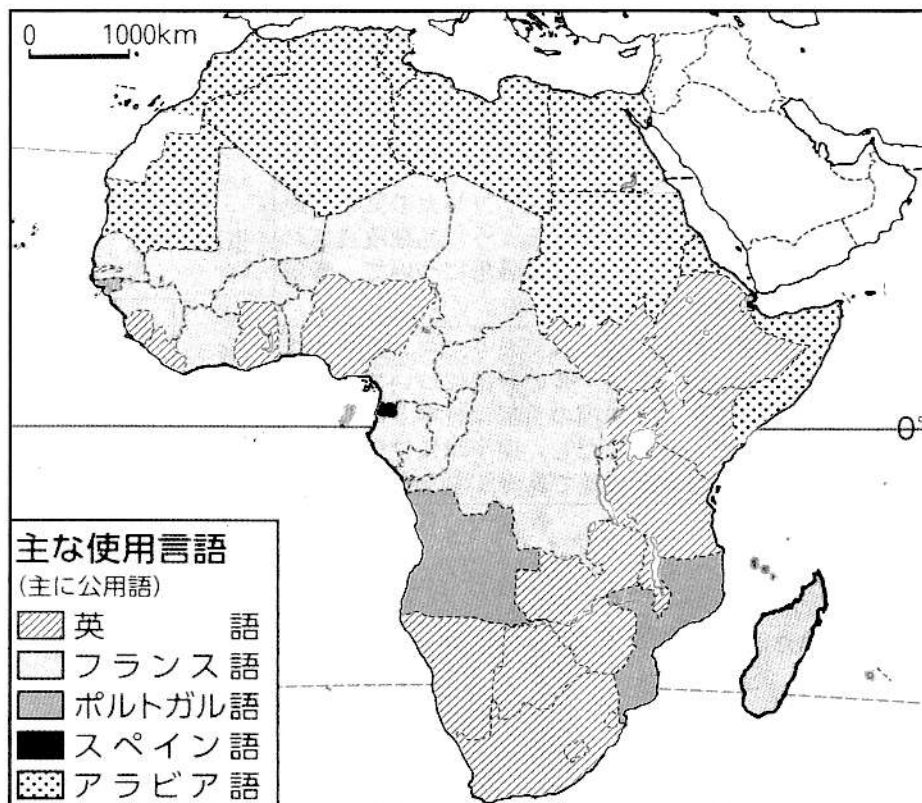
資料2から、コートジボワールはカカオ豆とその調整品の輸出が全体の約40%を占めていることがわかる。このように、特定の農産物や鉱産資源などの輸出に頼る経済をモノカルチャー経済という。

資料3から、カカオ豆とその調整品の輸出に頼るコートジボワールには、 という課題があることがわかる。

⑨

[3] なおとさんは、南アフリカ共和国では英語をはじめとする 11 言語が公用語となっていることを知り、資料4を使って他の国の主な使用言語について調べました。各国の主な使用言語に関するみわさんとの会話を読み、 にあてはまる文を書きなさい。

資料4 アフリカ各国の主な使用言語



なおとさん

なぜ、ヨーロッパの言語を公用語にする国がたくさんあるのかな。



みわさん

なぜなら、 だよ。



なおとさん

そうか、歴史的背景が関係していたんだね。



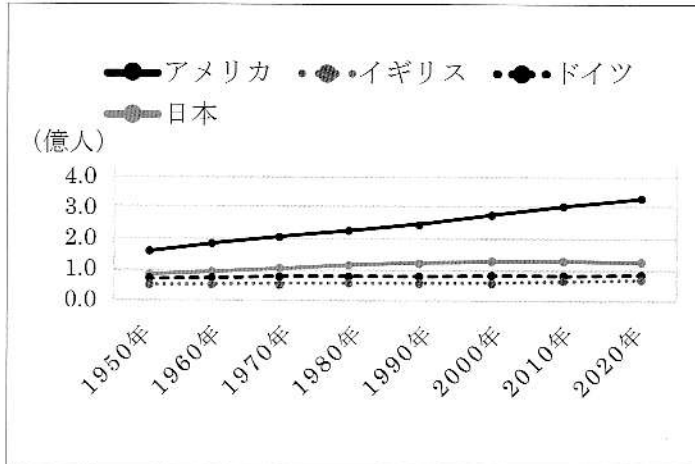
みわさん

また、国内にたくさんの民族が暮らしているので、公共の場やほかの民族と話すときはこれらの公用語を使うことが多いそうよ。

⑩

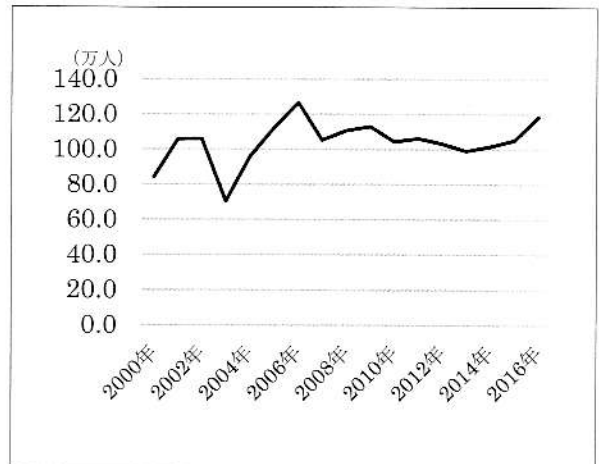
4 資料を見て, [1] ~ [3] の問いに答えなさい。

資料1 各国の人口推移



(総務省統計局「世界の統計」より)

資料2 アメリカ合衆国への移民の推移



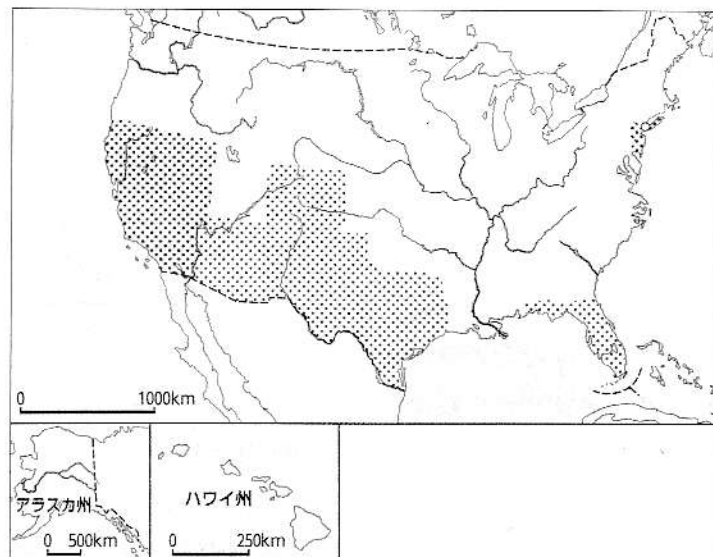
(OECD 統計資料より)

[1] なおきさんたちは資料1・2を見て, アメリカ合衆国で人口が増え続けている背景には移民が関係していると考えました。資料3の [ ] で示された地域では, メキシコや中央アメリカ, カリブ海諸国からの移民が多く暮らしていますが, その人々を言い表す言葉として, 適切なものをア~エから一つ選び, その記号を書きなさい。

- ア アフリカ系
- イ ネイティブアメリカン
- ウ ヒスパニック
- エ ヨーロッパ系

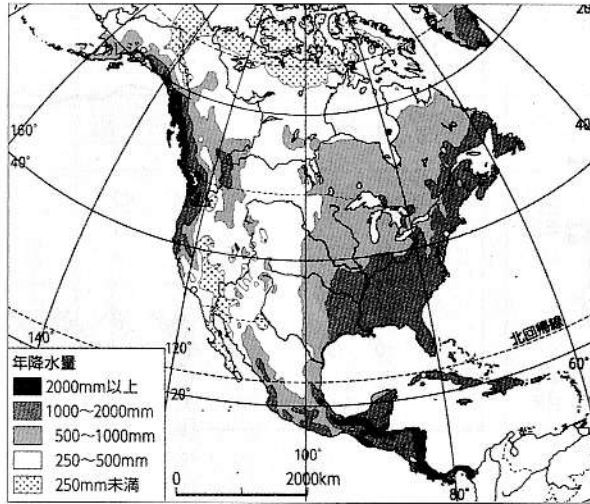
①

資料3



〔2〕 なおきさんはアメリカ合衆国に多くの人々が集まる理由として、農業が発展していることが背景にあることを知りました。資料4～6を参考に、アメリカ合衆国の農業の特徴を説明した文として正しいものをア～エから一つ選び、その記号を書きなさい。

資料4 北アメリカの降水量

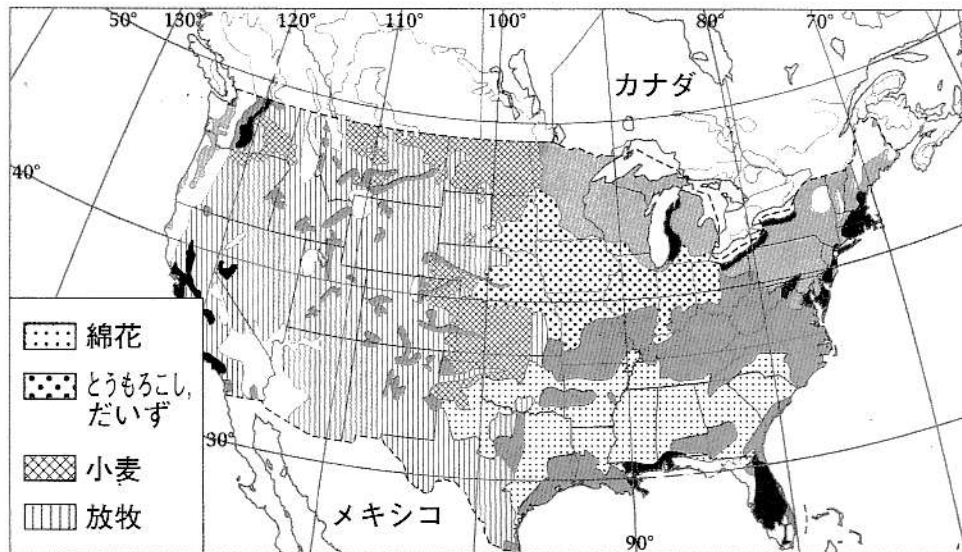


資料5 アメリカ合衆国と日本の農業の比較

	アメリカ合衆国	日本
一人あたり*の耕地面積 (ha)	71.3ha 	1.7ha 
一人あたり*の穀物収量 (t)	195.7t 	4.8t 

(2017年)

資料6 アメリカ合衆国の農業地域



ア アメリカ合衆国では、先進技術を使い、西部の雨が少ない地域でも大規模に綿花の栽培を行うなどの適地適作が行われている。

イ アメリカ合衆国は、日本よりも一人あたりの耕地面積が小さいが、効率的な農業を行っているため、一人あたりの穀物収量は日本よりも多い。

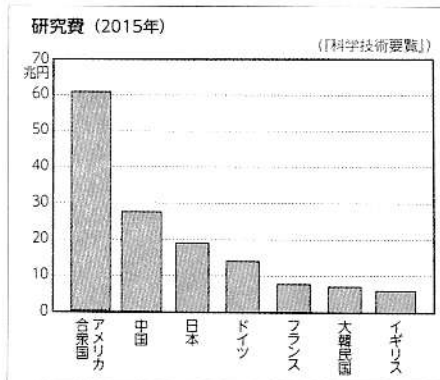
ウ アメリカ合衆国では、年降水量が500mm未満の地域で大規模な放牧が行われている。

エ アメリカ合衆国では、一人あたりの穀物収量が日本の50倍以上あり、とうもろこし、だいず、小麦などの穀物類は、アメリカ合衆国沿海部で生産されている。




〔3〕 あやのさんは発達した工業にも人々が集まる理由があると考えました。資料7～9から、あやのさんはアメリカ合衆国の工業の特徴をまとめました。( X )～( Z )にあてはまる語句の組み合わせとして適切なものをア～エから一つ選び、その記号を書きなさい。

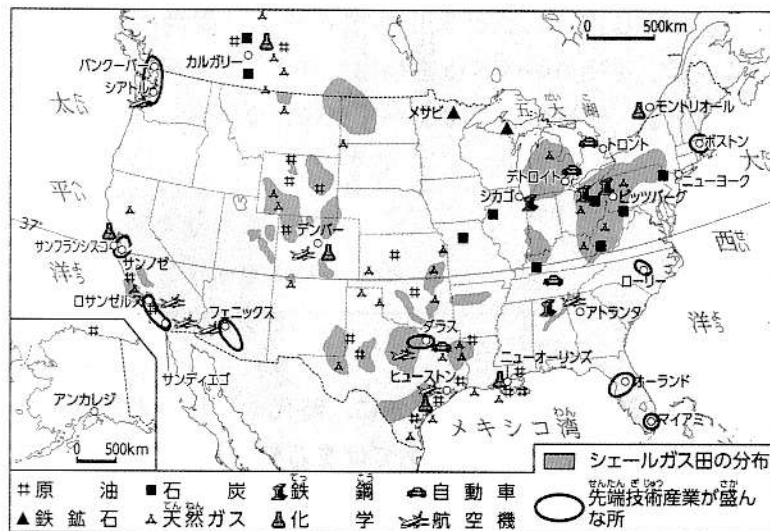
資料7 主な国の研究費



資料8 シリコンバレーに集まる企業



資料9 アメリカ合衆国の鉱工業



最先端の技術を学びたい人々にとって、アメリカ合衆国はとても魅力的です。なぜなら、ほかの国と比べて、研究費が ( X ) からです。また、近年は先端技術産業の ( Y ) 産業が発達しており、特に北緯 37 度から南に位置する ( Z ) と呼ばれる地域に企業が集中しています。

	( X )	( Y )	( Z )
ア	多い	石炭・鉄鋼	太平洋ベルト
イ	多い	情報通信技術	サンベルト
ウ	少ない	石炭・鉄鋼	サンベルト
エ	少ない	情報通信技術	太平洋ベルト

⑬

5 資料を見て、〔1〕～〔3〕の問いに答えなさい。

ゆきさんが作成した年表

世紀	前2	前1	1	2	3	4	5	6	7	8	9	
時代	原始			古代								
	縄文	弥生			古墳			飛鳥	奈良	平安		
日本の主なできごと	狩りや採集によって生活する 稲作・金属器の使用が始まる			古墳がつくられ始める 大和政権による統一が進む			奈良に都を定める 京都に都を定める					
世界の主なできごと	古代文明がおこる			イエスが生まれる ローマ帝国が成立する			隋が中国を統一する 唐が中国を統一する					

〔1〕 ゆきさんは日本と世界の主なできごとを年表にまとめたときに、時代や年代の表し方がさまざまであることを学習しました。次の文中の  にあてはまる数字を書きなさい。




ゆきさん

西暦は、イエスが生まれたと考えられている年を紀元1（元）年とし、それより前を紀元前〇〇年、それ以後を紀元（後）〇〇年と表します。  
世紀は、西暦の100年を一つの単位として年代を区切った表し方です。  
例えば西暦301年～400年は  世紀になります。

⑭

世紀

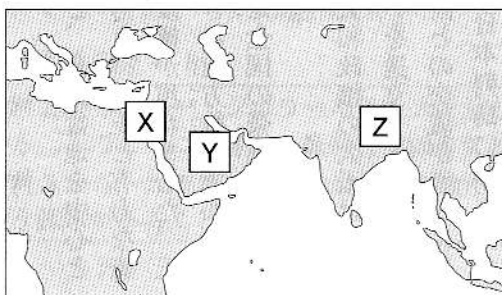
〔2〕 ゆきさんは、年表中の傍線部<sup>ほうせんぶ</sup>あ<sup>の</sup>古代文明について調べ、共通する特徴について下の3枚のカードにまとめました。□に入るカードのタイトルとしてあてはまる言葉を書きなさい。



⑮ □

〔3〕 ゆきさんは、年表中の傍線部<sup>ほうせんぶ</sup>い<sup>の</sup>イエスがキリスト教をおこしたことを知り、その他の宗教のおこりについても調べました。資料中のX～Zの地域におこった宗教の組み合わせとして正しいものを次の表のA～Eから一つ選び、その記号を書きなさい。

資料 宗教のおこり



	X	Y	Z
ア	キリスト教	イスラム教	仏教
イ	イスラム教	キリスト教	仏教
ウ	仏教	イスラム教	キリスト教
エ	キリスト教	仏教	イスラム教

⑯ □

6

資料を見て、〔1〕～〔3〕の問いに答えなさい。

たけとさんが作成した新聞

# 「古代の日本」新聞

## 農耕の広まり

紀元前四世紀ごろ、朝鮮半島から移り住んだ人々によって稲作が九州北部に伝えられ、やがて東北地方にまで広がりました。

これらの地域の人々は、水田の近くには、ねずみらを造り、たて穴住居の近くには、ねずみや湿気を防ぐ高床倉庫を造って、収穫した稲を収めました。

稲作とともに、大陸から青銅器や鉄器も伝わりました。

## 国々の成立


集団で行う稲作が盛んになると、むらの人々を従える有力者や、いくつかのむらをもとめる王が現れ、小さな国々ができてきました。

稲作によって食料の生産が増えると、人口も増加しました。人々が蓄えをもつようになると、むらの中に貧富の差とともに身分の区分が生まれてきました。資料1・2から、

A

こともわかります。

資料1 弥生時代のむらの生活の様子



資料2 吉野ヶ里遺跡で発見された首のない遺骨



## 中国から見た日本

B


## 古墳時代の生活

三世紀後半になると、奈良盆地を中心とする地域に、強大な力を持つ王と有力な豪族たちからなる大和政権が現れました。王や豪族の墓として大きな前方後円墳が造られ、この勢力に従った全国の豪族も古墳を造るようになりました。

五世紀に入ると、大和政権の大王は、中国の南朝に何度も使いを送り、大陸との交流を持ちました。大陸との交流が盛んになると、朝鮮半島から日本列島に移り住む人々（C）が増えました。Cによって、Dを作る技術など、新しい技術が伝えられました。

高温を出せるかまで作られた

D



[1] たけとさんは、「古代の日本」について新聞にまとめました。新聞中の **A** にあてはまる内容を解答用紙の書き出しに続けて書きなさい。

⑰ **むら** 同士の

[2] たけとさんは、新聞の中の **B** の部分に中国の歴史書を資料として追加しようと考え、次のア～ウの資料を集めました。資料ア～ウを古い順に並べて、その記号を書きなさい。

ア

南に進むと邪馬台国に着く。…もとは男を王としていたが、国内が乱れて戦いが何年も続くと、諸国は共同で女王を立てた。女王は卑弥呼といい、神に仕え、夫はなく、弟が助けて国を治めている。

「魏志倭人伝」より

イ

楽浪郡の海のかなたに倭人がいて、100以上の国にわかれている。その中には定期的に漢に朝貢する国もある。

「漢書」地理志」より

ウ

倭の奴国が漢に朝貢したので、光武帝は印綬をおくった。…桓帝と靈帝のころ、倭は大いに乱れ、長い間代表者が定まらなかった。

「後漢書」東夷伝」より

⑱

→ →

[3] 新聞を読んで、文中の **C** と **D** にあてはまる語句の組み合わせとして正しいものを、次の表のア～エの中から一つ選び、その記号を書きなさい。

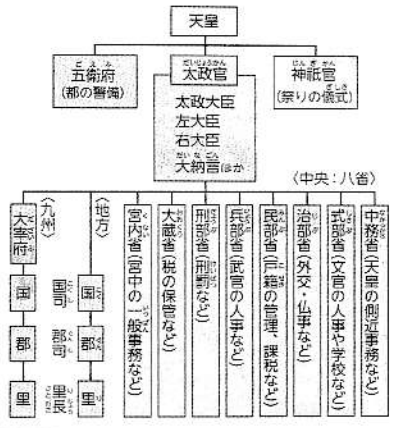
	C	D
ア	渡来人	埴輪
イ	蘇我氏	埴輪
ウ	渡来人	須恵器
エ	蘇我氏	須恵器

⑲

7 資料を見て，〔1〕～〔6〕の問いに答えなさい。

はるかさんたちのクラスは，「東アジア世界との交流を通して，8世紀から12世紀の日本はどのように変化したのだろうか。」という問いに対して，グループごとに観点を設定して，調べ学習に取り組みました。以下の資料1～4は，それぞれのグループが発表用に使用する資料です。

資料1 【はるかさんのグループ資料：観点は政治】



私たちは，奈良時代の政治のしくみについて調べました。資料1から，日本は唐の政治制度を手本として，天皇が中心となって政治を動かす役所のしくみが整えられたことがわかります。また地方は国に区切られ，都から〔A〕が派遣されました。

資料2 【ゆうたさんのグループ資料：観点は税】

6歳以上の男女			
租	租(収穫量の約3%)		
	正丁 (21～60歳の男子)	老丁 (61～65歳の男子)	少丁 (17～20歳の男子)
調	絹、糸、真綿、布または特産物	正丁の $\frac{1}{2}$	正丁の $\frac{1}{4}$
庸	布(労役10日のかわり)	正丁の $\frac{1}{2}$	なし
雑徭	地方での労役(年間60日まで)	正丁の $\frac{1}{2}$	正丁の $\frac{1}{4}$
兵役	3, 4人に一人。食料・武器を自分で負担し訓練を受ける。一部は都1年か防人3年	なし	なし

私たちは，奈良時代の税のしくみについて調べました。唐の制度を手本として，税のしくみが整備されました。資料2から，男子は女子と比べて，税の負担は〔B〕ことがわかります。そのため，逃亡したり，男子を女子といつわったりすることが増えました。

資料3 【いなさんのグループ資料：観点は宗教】



私たちは，奈良時代の宗教について調べました。資料3は〔C〕天皇の命令により造られました。唐の皇帝にならって，仏教の力で，伝染病や災害などの不安から国家を守ろうとしました。そして都には〔D〕を建て，地方の国ごとに国分寺や国分尼寺を建てました。

資料4 【しょうたさんのグループ資料：観点は文化】

平仮名			片仮名	
以	以	い	伊	イ
呂	呂	ろ	呂	ロ
波	波	は	ハ	ハ

私たちは，平安時代の文化について調べました。飛鳥や奈良時代は，国際的な文化が発展しました。しかし遣唐使の廃止後，日本の風土や生活，日本人の感情に合った文化が生まれました。そして資料4の〔E〕文字が発明され，文学作品が盛んにつくられました。

〔1〕 はるかさんのグループの発表について、**A**にあてはまる語句を資料1から抜き出して書きなさい。

⑳

〔2〕 ゆうたさんのグループの発表について、**B**にあてはまる言葉を書きなさい。

㉑

〔3〕 ゆうたさんのグループは、さらに、資料5を見つけました。この戸籍に書かれた久漏麻呂が納める必要のない税を資料2から抜き出し、二つ書きなさい。

資料5 古代の戸籍

男 <small>おとこ</small> ト部 <small>とべ</small> 久漏麻呂 <small>くろうまろ</small>	妻 <small>つま</small> ト部 <small>とべ</small> 西豆賣 <small>にしづめ</small>	母 <small>はは</small> 葛野部 <small>かどのべ</small> 伊志賣 <small>いしめ</small>	戸主 <small>こしゆうら</small> ト部 <small>とべ</small> 乃母曾 <small>ののもそ</small>	筑前 <small>ちくぜん</small> 國 <small>くに</small> 嶋郡 <small>しまぐん</small> 戸籍 <small>こせき</small> 川邊里 <small>かわのべのさと</small>
年拾玖歳 <small>としじゅうきゅうさい</small>	年肆拾漆歳 <small>とししじゅうしちさい</small>	年漆拾肆歳 <small>とししちじゅうしさい</small>	年肆拾玖歳 <small>とししじゅうきゅうさい</small>	大寶二年 <small>たいほうにねん</small>
少丁 <small>しょうてい</small>	丁妻 <small>ていさい</small>	耆女 <small>きじよ</small>	正丁 <small>せいてい</small>	課戸 <small>かこ</small>
嫡子 <small>ちやくし</small>				

㉒

〔4〕 いなさんのグループの発表について、**C**にあてはまる人物名と**D**にあてはまる語句を書きなさい。

②③	C	天皇
	D	

〔5〕 しょうたさんのグループの発表について、**E**にあてはまる語句を書きなさい。また、**E**文字を用いて貴族社会を描いた「源氏物語」の作者はだれか、作者名を書きなさい。

②④	語句	文字
	作者	

〔6〕 はるかさんは「東アジア世界との交流を通して、8世紀から12世紀の日本はどのように変化したのだろうか。」という問いについて、自分の考えをまとめました。に入るはるかさんの考えを、「東アジアの制度や文化」という語句を用いて書きなさい。



はるかさん

政治では、律令に基づく政治が行われるようになり、中央に権力を集中させた国家が生まれました。そして、戸籍に基づく税制度が整備されました。宗教では、都や国ごとに寺が建てられ、仏教の影響が地方にまで及びました。文化では、遣唐使の廃止によって、日本独自の文化が発展しました。つまり、日本は東アジア世界との交流を通して、

②⑤

○本テストに掲載の文章、絵、写真等は各著作権者の承諾を得て使用しています。  
○本テストの全部または一部を、許可無く複製・転写して使用することは、著作権法違反となります。

令和3年度 学力診断のためのテスト  
令和4年1月 茨城県教育委員会・茨城県教育研究会