

中 1 社

社 会

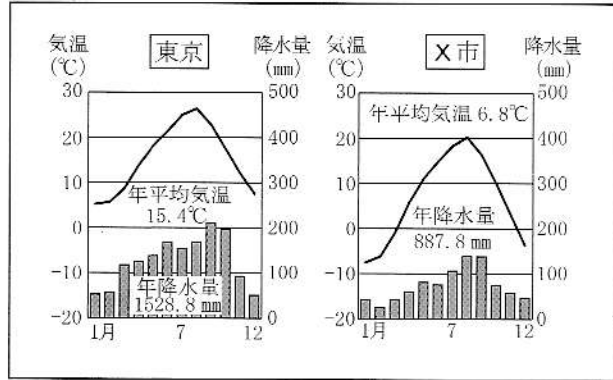
※ 解答はすべて解答用紙に書きなさい。

| 組 ・ 番号 | 氏 名 |
|------------------------------|-----|
| 第 1 学年 組 番 | 男 女 |

1 次の問いに答えなさい。

(1) 資料1は、東京とX市の月別の気温と降水量を表したものです。X市に当てはまる都市を、地図のア～エの中から一つ選び、その記号を書きなさい。①

資料1 東京とX市の月別の気温と降水量

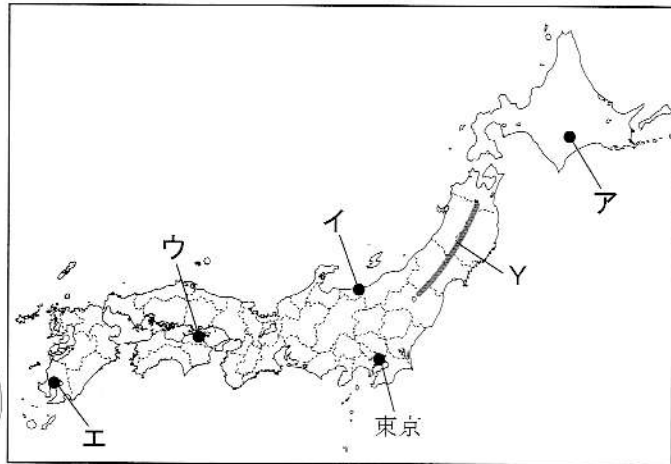


(「理科年表 2020 年版」より作成)

(2) 地図のYで示した山脈の名前を、次のア～エの中から一つ選び、その記号を書きなさい。②

- ア 木曾山脈
- イ 越後山脈
- ウ 赤石山脈
- エ 奥羽山脈

地図

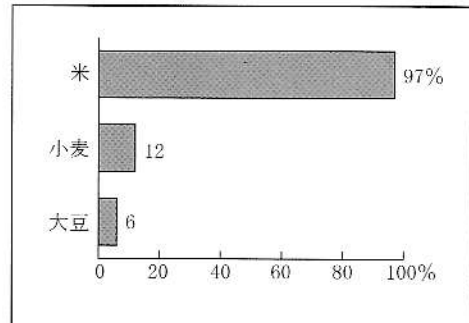


(3) 資料2は、日本の米、小麦、大豆の自給率を表したものです。米とくらべると、小麦と大豆の自給率にはどのような特ちょうが見られるか、「輸入」と「自給率」という二つの言葉を使って書きなさい。③

(4) 次の文中の に当てはまる語句を書きなさい。④

最近では、自分たちの住む地域で生産された食料を、その地域で消費する という取り組みがおこなわれている。

資料2 日本の米、小麦、大豆の自給率



(農林水産省「平成30年度食料需給表」より作成)

(5) 資料3は、日本のおもな漁業の特ちょうについてまとめたものです。資料3の Z に当てはまる漁業の名前を書きなさい。⑤

資料3 日本のおもな漁業の特ちょう

| 漁業 | おこなわれる場所 | おもな期間 |
|---------------------------|-----------------------|-----------|
| <input type="text"/> Z 漁業 | 海岸から 80 ～ 200 km ほどの海 | 日帰りまたは数日 |
| 沿岸漁業 | 海岸から数十kmまでの海 | 日帰り |
| 遠洋漁業 | 日本から遠く離れた海 | 数か月から1年ほど |

2 次の問いに答えなさい。

(1) 資料1の ア～エ はそれぞれ、中京工業地帯、京浜工業地帯、阪神工業地帯、瀬戸内工業地域のいずれかの工業生産額の割合を表したものです。ア～エのうち、中京工業地帯が当てはまるものを一つ選び、その記号を書きなさい。 ⑥

(2) 地図の P は、日本の四大公害病のうち、鉱山から出されたカドミウムが原因で発生した公害病の発生地域を示しています。この公害病の名前を書きなさい。 ⑦

(3) 1993年に、世界自然遺産に登録された白神山地の場所を、地図のア～エの中から一つ選び、その記号を書きなさい。 ⑧

(4) 資料2は、情報通信機器を保有している世帯の割合を表したものです。資料2について述べた文として、正しいものを、次のア～エの中から一つ選び、その記号を書きなさい。 ⑨

ア 2015年のスマートフォンを保有している世帯の割合は、同じ年のパソコンを保有している世帯の割合を上回っている。

イ 2010年と2019年をくらべると、パソコンを保有している世帯の割合は、約30%減っている。

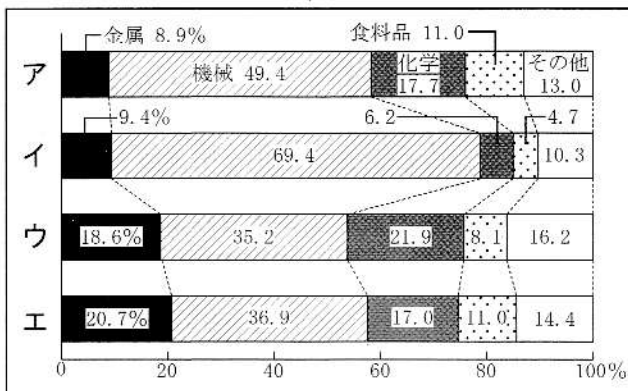
ウ 2019年のスマートフォンを保有している世帯の割合は、同じ年のタブレット型端末を保有している世帯の割合の2倍以上である。

エ 2010年と2019年をくらべると、スマートフォンを保有している世帯の割合は、10倍以上に増えている。

(5) 次の文中の に共通して当てはまる語句を書きなさい。 ⑩

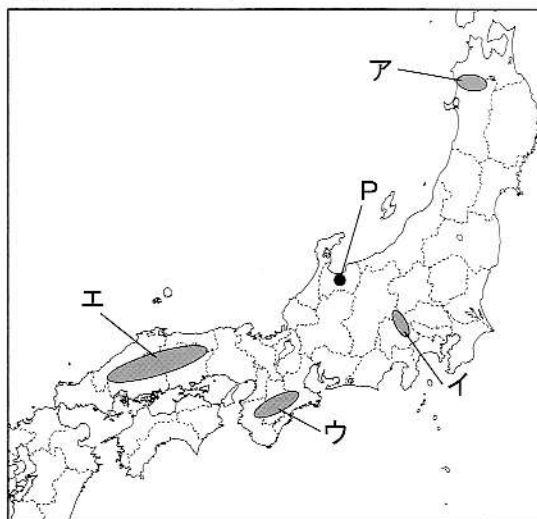
名前・住所・電話番号などの個人を特定できる、あらゆる情報のことを といいいます。 がもれると、犯罪にまきこまれるなどのおそれがあります。

資料1 おもな工業地帯・工業地域の生産額の割合

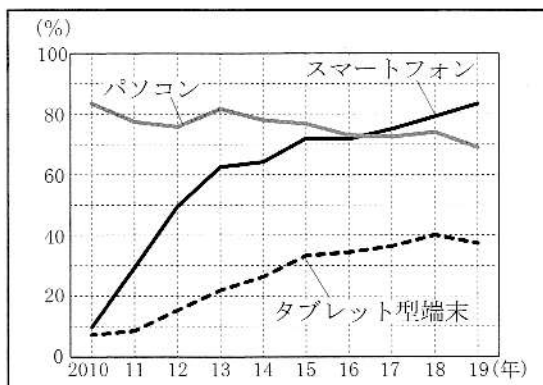


(2017年) (「日本国勢図会 2020/21」より作成)

地図



資料2 情報通信機器を保有している世帯の割合



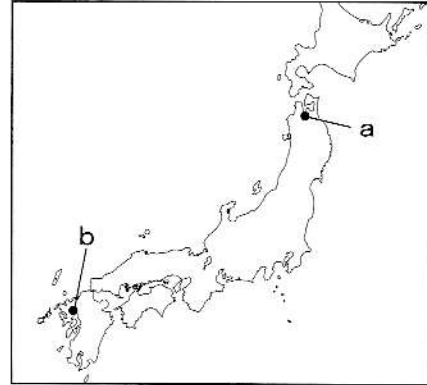
(「令和元年通信利用動向調査」より作成)

3 次の問いに答えなさい。

- (1) 次の文中の X Y に当てはまる語句の組み合わせを、下のア～エの中から一つ選び、その記号を書きなさい。 ⑪

X 時代には米づくりがさかんになり、収穫した米は高床の倉庫に保管されました。 Y にある吉野ヶ里遺跡は、 X 時代の代表的な遺跡です。

地図



- ア [X 縄文 Y 地図の a] イ [X 弥生 Y 地図の a]
 ウ [X 縄文 Y 地図の b] エ [X 弥生 Y 地図の b]

- (2) 3～7世紀ごろにつくられた古墳のまわりには、資料のような上製の焼き物がならべられました。つぼ形や、人や動物をかたどったものなど、さまざまな形があるこの焼き物の名前を書きなさい。 ⑫

資料



- (3) 聖徳太子がおこなったことについて述べた文として、当てはまらないものを、次のア～エの中から一つ選び、その記号を書きなさい。 ⑬

- ア 冠位十二階を定め、能力や功績によって役人を取り立てた。
 イ 中臣鎌足らとともに蘇我氏をたおし、大化の改新を始めた。
 ウ 役人の心構えを示すために、十七条の憲法を定めた。
 エ 仏教の教えを広めるために、法隆寺を建てた。

- (4) 次の文中の に共通して当てはまる語句を書きなさい。 ⑭

7～9世紀、唐(中国)にむけて、たびたび とよばれる使者が送られました。 は、中国の進んだ政治のしくみや文化を学び、仏教の経典などを日本に持ち帰りました。

- (5) 12世紀末に、朝廷から征夷大將軍に任命されたある人物は、武士による政府である鎌倉幕府を開きました。この人物はだれか、その名前を書きなさい。 ⑮

- (6) 次の文中の に共通して当てはまる語句を、下のア～エの中から一つ選び、その記号を書きなさい。 ⑯


13世紀後半、 の大軍が二度にわたり九州北部にせめてきました。鎌倉幕府の執権の北条時宗は、御家人を集めて の大軍と戦いました。

- ア 清 イ 元 ウ 明 エ 宋

4 次の問いに答えなさい。

- (1) 室町幕府の8代将軍である足利義政は、15世紀の終わりに京都の東山に銀閣を建てました。資料は、銀閣のとなりにある東求堂という建物の部屋をえがいたものです。資料のように、障子やふすまを使った部屋のつくりを何とというか、その名前を書きなさい。 ⑰

資料



- (2) 次の文は、ある人物についてまとめたものです。当てはまる人物を、下のア～エの中から一つ選び、その記号を書きなさい。 ⑱

桶狭間の戦いで今川氏を破り、その後も有名な大名をたおして勢力を広げました。また、琵琶湖のほとりに安土城をきずき、天下統一のための拠点としました。

- ア 徳川家光 イ 徳川家康 ウ 織田信長 エ 大塩平八郎

- (3) 豊臣秀吉は刀狩という政策をおこないました。刀狩とはどのような政策か、「百姓」という言葉を使って書きなさい。 ⑲

- (4) 次の文中の に共通して当てはまる語句を書きなさい。 ⑳

教は、1549年にフランシスコ・ザビエルによって日本に伝えられました。しかし、江戸時代になると、幕府は信者たちが団結して命令に従わなくなることをおそれ、 教を禁止しました。

- (5) 次のカードA、カードBは、江戸時代に発展した学問についてまとめたものです。カードA、カードBの X , Y に当てはまる語句の組み合わせを、下のア～エの中から一つ選び、その記号を書きなさい。 ㉑

カードA

【蘭学について】

杉田玄白や前野良沢らは、オランダ語の医学書を翻訳して X を出版しました。

カードB

【国学について】

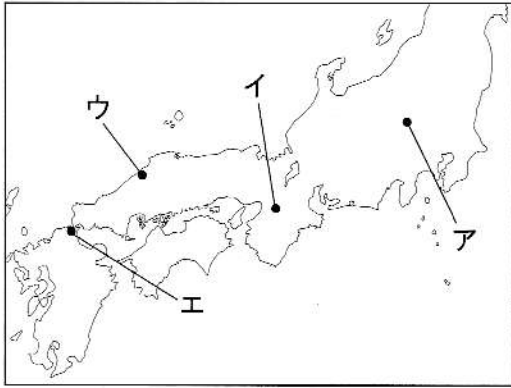
Y は『古事記』の研究を進め、35年かけて『古事記伝』を完成させました。

- ア [X 『学問のすゝめ』 Y 本居宣長]
 イ [X 『解体新書』 Y 本居宣長]
 ウ [X 『学問のすゝめ』 Y 伊能忠敬]
 エ [X 『解体新書』 Y 伊能忠敬]

5 年表を見て、次の問いに答えなさい。

- (1) 年表のAについて、富岡製糸場の位置を、地図のア～エの中から一つ選び、その記号を書きなさい。 ㉒

地図



年表

| 西暦 | おもなできごと |
|-------|-------------------------------------|
| 1872年 | 富岡製糸場が完成する……………A |
| 1889年 | 大日本帝国憲法が公布される……………B |
| 1894年 | 不平等条約の一部の改正に成功する……………C |
| 1941年 | <input type="text" value="D"/> が始まる |
| 1946年 | 日本国憲法が公布される |
| | ↑ ↓ E |
| 1995年 | 阪神・淡路大震災がおこる |

- (2) 年表のBについて、次の文中の , に当てはまる数字と語句の組み合わせを、下のア～エの中から一つ選び、その記号を書きなさい。 ㉓

1890年、憲法にもとづいた初めての選挙がおこなわれました。このとき選挙権をもっていたのは、一定の税金を納めた満 才以上の でした。

- ア [X 20 Y 男女] イ [X 25 Y 男女]
 ウ [X 20 Y 男子] エ [X 25 Y 男子]

- (3) 年表のCについて、次の文中の に共通して当てはまる権利の名前を書きなさい。 ㉔

江戸時代の終わりに、幕府が欧米諸国と結んだ条約では、日本が を認めたため、外国人が日本でおかした罪を日本の法律で裁くことができませんでした。1894年、外務大臣の陸奥宗光は、イギリスと交渉をおこない、 の廃止に成功しました。

- (4) 年表の には、日本軍がイギリス領のマレー半島と、ハワイの真珠湾にあるアメリカ軍基地を攻撃したことによって始まった戦争が当てはまります。この戦争の名前を書きなさい。 ㉕

- (5) 年表のEの時期におこった次のア～ウのできごとを、年代の古い順に左からならべて、その記号を書きなさい。 ㉖

- ア アジア初となるオリンピック・パラリンピックが東京で開かれた。
 イ サンフランシスコで開かれた講和会議で、日本は48か国と平和条約を結んだ。
 ウ アメリカに占領されていた沖縄が日本に返還された。

6 次の問いに答えなさい。

(1) 日本国憲法に定められている国民の義務として、当てはまらないものを、次のア～エの中から一つ選び、その記号を書きなさい。 ㉗

- ア 子どもに教育を受けさせる義務 イ 働く義務
ウ 政治に参加する義務 エ 税金を納める義務

(2) 日本国憲法に定められている天皇の仕事として、当てはまるものを、次のア～エの中から一つ選び、その記号を書きなさい。 ㉘

- ア 憲法改正、法律、条約などを公布する。 イ 国の予算を決定する。
ウ 法律が憲法に違反していないか審査する。 エ 法律を制定する。

(3) 国の重要なことを決めている国会には、2つの話し合いの場があります。この話し合いの場は、参議院と、もう1つは何ですか。その名前を書きなさい。 ㉙

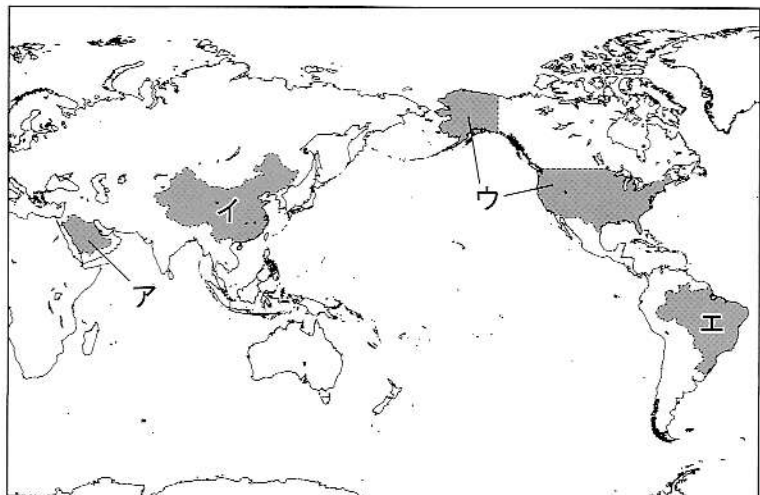
(4) 次の文中の に共通して当てはまる語句を書きなさい。 ㉚

2009年から、国民の意見を裁判に生かしたり、裁判に対する国民の関心を高めたりすることを目的に、国民が として裁判に参加する 制度が始まりました。

(5) 次の文は、ある国のおもな特ちょうをまとめたものです。この国を、地図のア～エの中から一つ選び、その記号を書きなさい。 ㉛

- ハンバーガーが生まれた。
- 宇宙開発などの最先端の研究がおこなわれている。
- おもな言語は英語である。
- 広大な土地を生かして大型機械を使った大規模な農業がおこなわれている。

地図



(6) 1945年に、世界の平和を守り、人々のくらしの発展を目的とする国際的な組織が発足し、現在では、世界の193か国が加盟しています(2020年)。ユニセフやユネスコなどの機関がある、この組織を何というか、その名前を書きなさい。 ㉜