

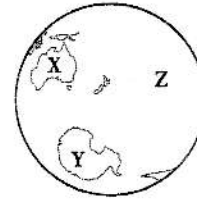
# 令和3年度 1学年1学期期末テスト

( )組 ( )番 名前 ( )

1. 次の(1)～(5)の問いに答えなさい。

(1) 右の地図1は、海が多く見える向きから見た地球です。XとYの大陸、Zの大洋を何というか答えなさい。

地図1



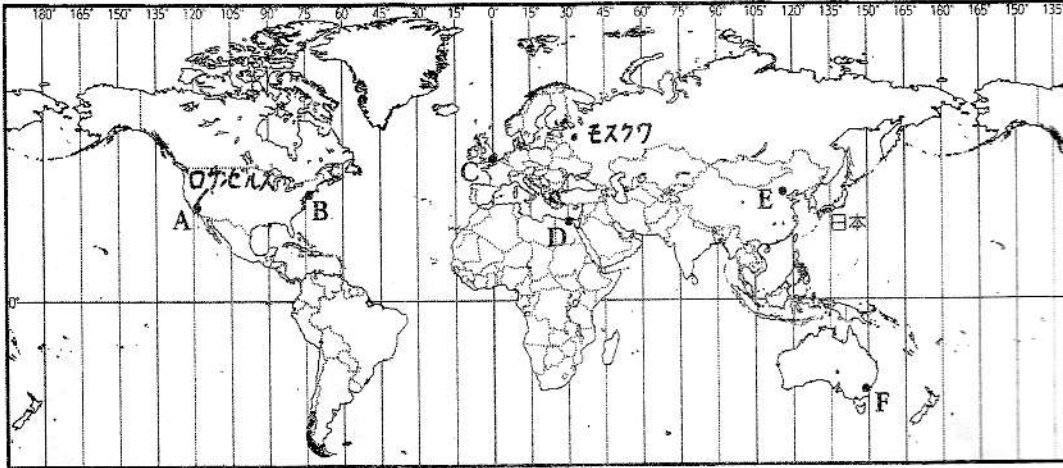
(2) 2021年現在、世界で最も大きな大陸はどこか、次のア～エから1つ選んで答えなさい。

ア. アフリカ大陸 イ. 情熱大陸 ウ. ユーラシア大陸 エ. 南アメリカ大陸

(3) 島国、内陸国の特徴を説明しなさい。

2. 地図2を見て、次の問いに答えなさい。

地図2



(1) 日本とロンドンの時差は何時間が答えなさい。

(2) 日本の標準時子午線は兵庫県の何市か答えなさい。

(3) 日本が6月16日午前8時のとき、次の各都市は6月何日の何時か、午前・午後も分かるように答えなさい。

- ① ロサンゼルス
- ② モスクワ

(4) A～Fの都市のうち、日本との時差が14時間の都市はどこか、記号を書きなさい。

(5) 北半球と南半球の両方にまたがる大陸をすべて答えなさい。

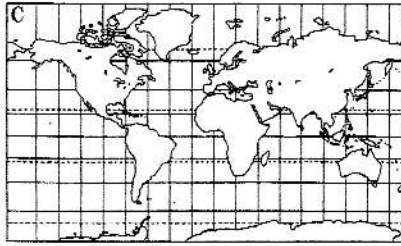
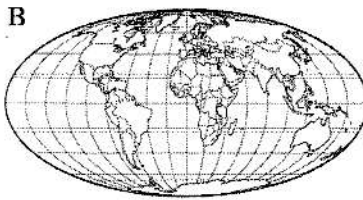
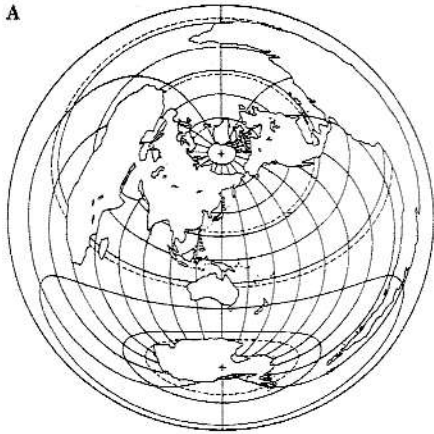
(6) インド洋の位置について、「ユーラシア大陸」、「アフリカ大陸」、「東」、「南」の語句を使って説明しなさい。

(7) アジア州の位置について、「ユーラシア大陸」、「ヨーロッパ州」、「インド洋」の語句を使って説明しなさい。

(8) (6) や (7) の問題を参考に、大陸や海洋、州や国の位置に関する問題を1つ書きなさい。

4. 2. 4

3. 次の世界地図について、次の問いに答えなさい。

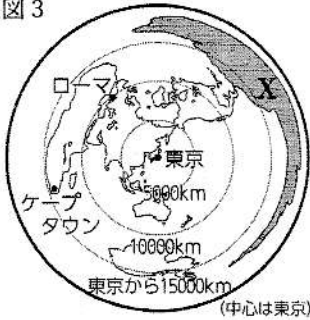


(1) A～Cの世界地図の特色にあてはまるものを、次からそれぞれ選び、記号で答えなさい。  
 ア. 面積を正しく表す    イ. 角度を正しく表す    ウ. 中心からの距離と方位を正しく表す

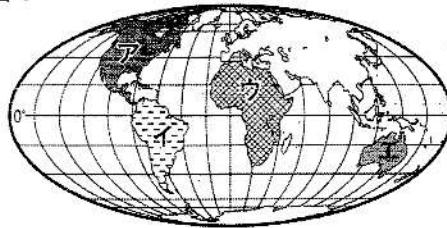
(2) 下記の文章の (       ) にあてはまる語句を [       ] から1つずつ選びなさい。  
 この地図にはさまざまな (①       ) があるので、使う (②       ) に応じて選ぶ必要がある。  
 [ 目的 色 特徴 場所 ]

(3) 地図3のXと同じ大陸を、地図4のア～エから1つ選びなさい。また、その大陸の名前も答えなさい。

地図3

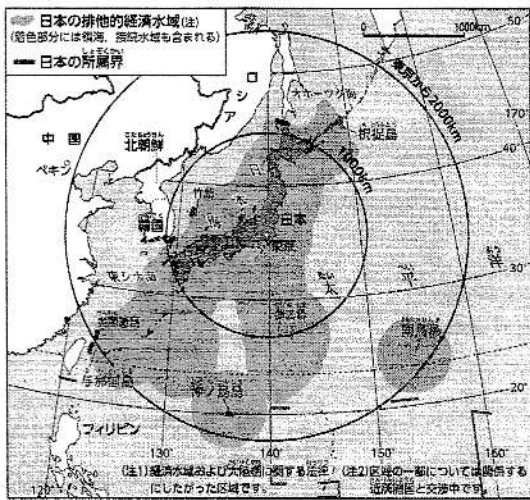


地図4



4. 地図5を見て次の問いに答えなさい。

地図5



(1) 「排他的経済水域」と「国土面積」の語句を使って、日本の領域の特色を説明しなさい。

(2) 択捉島と沖ノ鳥島について、語群の中から2つ以上の語句を使って、それぞれの島を説明しなさい。

語群    東 西 南 北 北方領土  
 尖閣諸島 排他的経済水域

(3) 中国が1970年代に尖閣諸島が自分たちの領地だと主張した。この問題に対してどう解決すればよいと考えるか、自分の考えを書きなさい。

5. 人類の出現について武藤さんと城ノ内さんが話し合っています。会話を読み、次の問いに答えなさい。

城ノ内さん：人類っていつごろ現れたんだろうね。

武藤さん：700～600万年前だったと言われているよ。(①) っていうらしいよ。

城ノ内さん：そうなんだ。

武藤さん：(①) は(②) で現れたとされているんだ。

城ノ内さん：そのあと、人類は(③) から(④) へと進化していったと聞いたことがある。

武藤さん：フランスのラスコー洞窟には、旧石器時代に描かれたとされる壁画があるんだって。

(1) 会話の中の①～④に入る語句を次の [ ] から選んで答えなさい。

原人 新人 社会人 旧人 猿人 アメリカ エジプト アフリカ アジア

(2) 資料1はフランスのラスコー洞窟に描かれた壁画である。これが描かれたときの人類はどれか。(1)の [ ] から選んで答えなさい。

資料1



(3) 旧石器時代と新石器時代の生活について、語群から2つ選び、それぞれ説明しなさい。

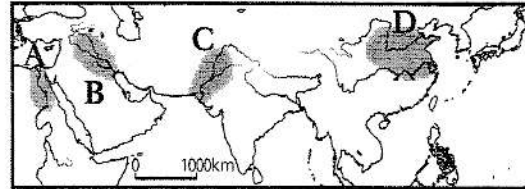
語群 農耕 狩り 移動 牧畜 土器 採集

6. 古代文明について、次の問いに答えなさい。

(1) 地図6のAの地域は、何という川の流域か、答えなさい。 地図6

(2) 地図6のB～Dの地域を中心に発達した古代文明をそれぞれ何というか、答えなさい。

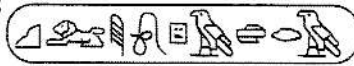
(3) 地図6のAとBをふくむ地域を何というか書きなさい。



(4) 次の文章を読んで、( ) に入る正しい組み合わせを1つ選んで、記号で答えなさい。

ある文明は資料2の(①) 文字と太陽を基準に1年を365日として12か月に分けた暦(②) を発明した。また、ある文明は資料3の(③) と月の満ち欠けにもとづく暦(④) を発明した。

資料2



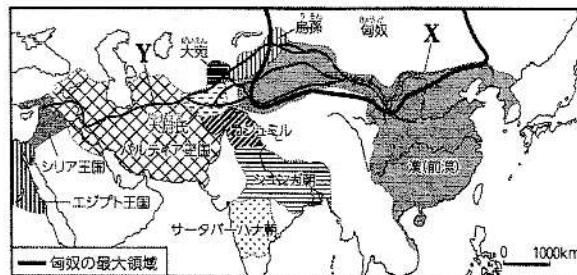
資料3



- A: ①象形 ②太陰 ③くさび形 ④太陽  
 B: ①くさび形 ②太陽 ③象形 ④太陰  
 C: ①象形 ②太陽 ③くさび形 ④太陰  
 D: ①くさび形 ②太陰 ③象形 ④太陽

(5) 紀元前3世紀に秦の始皇帝が整備した建造物(地図7のX)を何というか。また、秦の始皇帝がXの建造物をつくった目的は何か。「北方の遊牧民」という語句を使って書きなさい。

地図7



7. ギリシャ・ローマ文明、宗教のおこりについて、次の問いに答えなさい。

(1) ギリシャ人が地中海各地に建設したアテネやスパルタのような都市国家をカタカナで何というか、答えなさい。

(2) 次の①、②の文で述べている国を次の〔 〕の中から1つずつ選んで答えなさい。

① 6. (3) を統一し、紀元前5世紀にギリシャに攻め込んだが、撃退された国

② 紀元前4世紀にギリシャを征服したあと、アレクサンドロス大王が①の国を征服し、インダス川に達するまで領土を広げた国


〔 ローマ帝国 マケドニア ギリシャ ペルシャ 〕

(3) 世界の三大宗教をそれぞれ書きなさい。

8. 縄文時代、弥生時代について、次の問いに答えなさい。

資料4

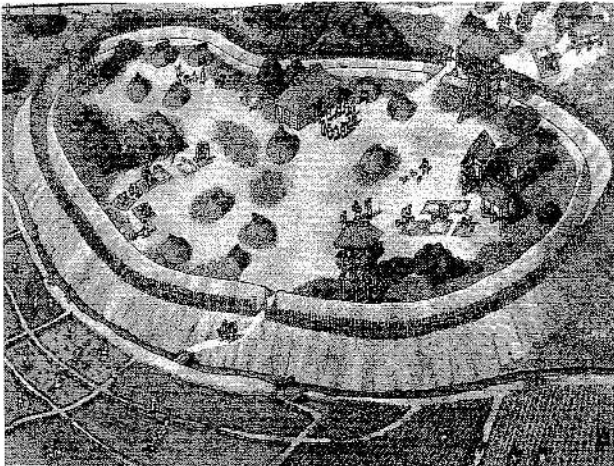
(1) 資料4は縄文時代の暮らしの様子である。縄文時代の人々は何をしているのか、語群から2つ以上選んで答えなさい。



語群 狩り 定住 採集 移動 貝塚 土器

(2) 資料5は弥生時代の暮らしの様子である。縄文時代と比べてどんなことが変わったか資料4、5を見ながら答えなさい。

資料5



資料6



(3) 弥生時代は資料6の遺骨が見つかった。この頃どんなことがあったと考えられるか、書きなさい。

(4) 資料7のXとYは、中国と正式な関係を結んで皇帝に認めてもらい、国王としての権威を高めるために送られた。そのときに行った「朝貢」とはどのようなことか、答えなさい。

資料7

紀元前 1世紀頃	倭は100余りの国に分かれていた。
1世紀 半ば	倭の奴国の王が中国に使いを送った X
3世紀 前半	邪馬台国の女王が中国に使いを送った Y