



# 令和3年度 1学年2学期確認テスト

( )組 ( )番 名前 ( )

1. 飛鳥時代について次の問いに答えなさい。

〔年表〕

年	主なできごと
581	隋が建国される 高句麗・百済が隋に使節を送る
589	隋, 中国を統一
593	聖徳太子, a 摂政となる
594	新羅, 隋に使節を送る
600	倭, 隋に使節を送る
603	b 冠位十二階を制定
604	c 十七条の憲法を制定
607	倭, 再び隋に使節を送る
645	d 大化の改新

〔資料1〕


一に曰く、和をもって貴しとなし、さからうことなきを宗とせよ。  
 二に曰く、あつく三宝を敬え。三宝とは仏・法・僧なり。  
 三に曰く、詔をうけたまわりては必ずつつしめ。

- ①聖徳太子は下線部 a を何天皇のもとで行ったか書きなさい。  
 ②聖徳太子と協力して下線部 b、c の改革を行った豪族を次のア～エから1つ選び、記号を書きなさい。

ア. 物部氏 イ. 中臣氏 ウ. 蘇我氏 エ. 筑西氏

③〔資料1〕は十七条の憲法の一部である。聖徳太子はどのようなことを示すため、資料のきまりを定めたか、「役人」という語句を使って書きなさい。

〔写真1〕



〔説明文〕

〔写真1〕は、金堂や五重塔などが現存する世界最古の木造建築として有名な( A )で、聖徳太子の建立と伝えられている。建立に高い技術力と経済力を必要とする寺院は、それまでの( B )に代わり、有力者や豪族の権威を示す象徴としても重視された。

④〔説明文〕のAに当てはまる寺院の名称を答えなさい。

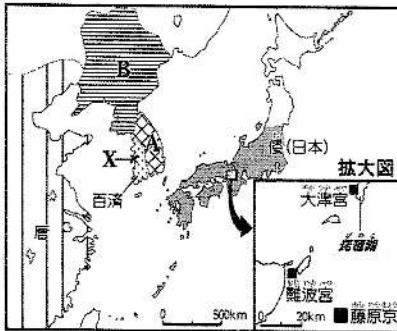
⑤〔説明文〕のBに当てはなる語句を次のア～エから1つ選び、記号を書きなさい。

ア. 古墳 イ. 埴輪 ウ. 銅鐸 エ. 金印

⑥下線部 d は、のちに天智天皇となる( C )が( D )らとともに蘇我氏をたおした後に始まったものである。文中のC、Dにあてはなる人物名を答えなさい。

⑦下線部 d で示された、それまで各地の豪族が支配していた土地と人々を国家が直接支配する方針を何というか答えなさい。

〔資料2〕



〔資料3〕



⑧7世紀初めに隋が滅びて唐が中国を統一した。唐は、資料2のAと手を組んでBや百済を滅ぼした。A、Bの国名を答えなさい。

⑨百済の復興を助けるために倭(日本)は資料2のXに大軍を送ったが敗れた。この戦いを何というか答えなさい。

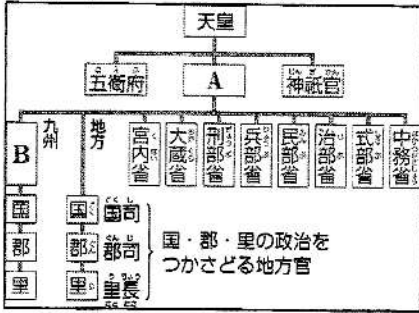
⑩⑨の戦いに敗れた後、倭(日本)はすぐに資料3の場所などの西日本各地に山城、水城を築いたのはなぜか答えなさい。

⑪資料2の拡大図に名を示した都の中から、日本で最初の本格的な都の名を次のア～ウから一つ選び、記号を書きなさい。また、その都を完成させた天皇の名前を書きなさい。

ア. 大津宮 イ. 藤原京 ウ. 難波京

2. 奈良時代について次の問いに答えなさい。

〔資料1〕




〔資料2〕

負担	内容
(a)	稲の収穫の約3%
(b)	絹や糸などの特産物
(c)	労役のかわりに麻の布

〔資料4〕

…墾田は期限が終われば、ほかの土地と同様に国におさめられることになっている。しかし、…今後は私有することを認め、期限を設けることなく永久に国におさめなくてもよい。  
〔続日本紀〕部分要約


〔資料3〕



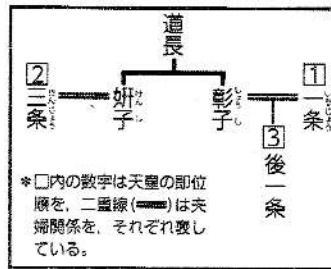
- 資料1は律令国家の役所の仕組みである。資料のA・Bに当てはまる役所（機関名）を下のア～エから選び、それぞれ記号で答えなさい。  
ア. 多賀城 イ. 太政官 ウ. 大宰府 エ. 朱雀官
- 資料2は奈良時代における税の種類である。(a)～(c)に当てはまる税を答えなさい。
- 資料3は唐にならってつくられた貨幣で、都の市などで使われたものである。この貨幣を何というか答えなさい。
- 資料4は奈良時代に出された開墾をすすめる法令である。この法令によって、土地支配においてどのような動きがおこったかを、法令の名前、「貴族、大寺院」という語句を使って説明しなさい。

3. 平安時代について次の問いに答えなさい。

〔資料1〕



〔資料2〕



〔資料3〕


国司の暴政（「尾張国郡司百姓等解」）  
尾張国の国司藤原元命が、この3年間に行った不法な税の取り立てと乱暴について、次の31件のことを裁いてくださるよう、尾張国の郡司・民衆が太政官にお願い申し上げます。

- 坂上田村麻呂が桓武天皇から任じられた東北地方の蝦夷を征服するための総司令を何というか答えなさい。
- 資料1は、偽りの見られる戸籍である。何のためにどのように戸籍を偽ったのか、「負担」、「男子」の2語を使って説明しなさい。
- 平安時代初めに開かれた新しい仏教とその開祖、寺院の組み合わせが正しいものを、次のア～エから1つ選び、記号を書きなさい。  
ア. 真言宗、空海、金剛峯寺 イ. 天台宗、最澄、金剛峯寺  
ウ. 天台宗、空海、金剛峯寺 エ. 真言宗、最澄、延暦寺
- 資料2は、藤原氏と皇室の関係を示した系図の一部である。藤原道長は、三條天皇を退位させ、まだ幼い後一條天皇を即位させたが、そうすることで何という職に就こうとしたと考えられるか。資料から読み取れる、藤原道長と後一條天皇の関係とあわせて書きなさい。
- 資料3は国司の暴政を訴えた文である。下線部の不法な税の取り立ては、どのようなものだったのか説明しなさい。

4. 天平文化、国風文化について次の問いに答えなさい。

〔資料1〕

〔資料2〕



①資料1は、天平文化が栄えた時代に都に大仏を造らせた聖武天皇である。この人物が都に大仏を造らせた理由を「仏教」「国」という語句を使って説明しなさい

②資料2は、2019年4月1日に行われた新元号発表に関する記者会見の様子である。新元号「令和」は天平文化が栄えた頃、日本最古の和歌集から出

典している。この日本最古の和歌集を何というか答えなさい。

③次の(1)～(3)の文について、奈良時代の文化にあてはまるものにはAを、平安時代の文化にあてはまるものにはBを、それぞれ書きなさい。

- (1) 紫式部の「源氏物語」や清少納言の「枕草子」など、すぐれた文学作品が生まれた。
- (2) 「万葉集」に、天皇から防人、農民にいたるまでの和歌がおさめられた。
- (3) 正倉院が建てられ、西アジアやインドから伝わったものなども納められた。


5. 世界の気候について、次の問いに答えなさい。

①次のA～Dの文を読んで、それがどの気候にあたるのかを、下記のア～エから1つずつ選び、記号で書きなさい。

- A 雨がとても少なく、砂や岩の砂漠が広がっている。
- B 一年中暑く、雨季と乾季をはっきり分かれている。
- C 一年中寒さが厳しいが、夏は地表の氷がとけてコケ類が生える。
- D 四季の変化がはっきりしていて、夏に乾燥し、冬に雨が多い。

〔ア. ツンドラ気候    イ. 地中海性気候    ウ. 砂漠気候    エ. サバナ気候〕

〔写真1〕




〔写真2〕



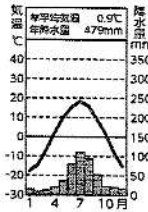
〔写真3〕



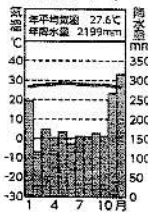
〔写真4〕



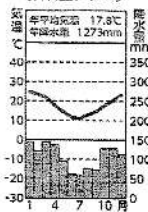
〔雨温図1〕



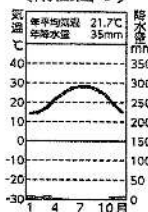
〔雨温図2〕



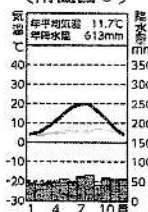
〔雨温図3〕



〔雨温図4〕



〔雨温図5〕



〔資料年表 2020. ほか〕

②次のア・イの気候で見られる風景を〔写真1〕〔写真2〕〔写真3〕〔写真4〕から、気温と降水量を〔雨温図1〕〔雨温図2〕〔雨温図3〕〔雨温図4〕〔雨温図5〕からそれぞれ一つずつ選び、番号で答えなさい。

- ア. 短い夏と寒さの厳しい冬があり、夏と冬の気温差が大きい気候
- イ. 降水量が少なく、草木がほとんど育たない気候

③〔雨温図1〕〔雨温図2〕〔雨温図3〕〔雨温図4〕〔雨温図5〕から南半球の雨温図を一つ選び、番号で答えなさい。また、選んだ理由を説明しなさい。

- ④右の写真5はインドネシアの伝統的な家である。このように床を地面から高く上げた造りの家を、「( )の家」という。文中の( )にあてはまる語句を書きなさい。また、家の床を高くしているのはなぜか、書きなさい。

〔写真5〕



- ⑤スペインは温暖な地域である。スペインで栽培がさかんな農作物のうちa食用のオイルとbワインの原料となるものを、次から1つずつ選びなさい。


〔ぶどう もも レモン オリーブ〕

- ⑥次の文中の( )にあてはまる語句を書きなさい。


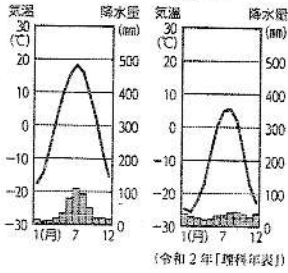
スペインやシベリアでは家の( c )を厚くしている。これは、スペインでは夏の強い( d )をさえるため、シベリアでは寒い冬に家に寒気を入れず家の暖気をにがさないためである。

- ⑦シベリアの家は写真6のような造りになっている。なぜこのような造りになっているのか、「熱、永久凍土」の2語を使って説明しなさい。

〔写真6〕



〔資料1〕 〔資料2〕 〔資料3〕




〔資料4〕



- ⑧資料1は亜寒帯(冷帯)に属するイルクーツク、資料2は寒帯に属するディクソンの雨温図である。また、資料3は亜寒帯、資料4は寒帯に見られる景観である。資料3、4から読み取れる、亜寒帯と寒帯の樹木の生育のちがいを、気温と関連付けて書きなさい。

- ⑨資料5は世界の宗教別人口の割合を示したものである。資料のX、Yにあてはまる世界に広まった宗教の名を書きなさい。

〔資料5〕



- ⑩資料5のZは、カーストという身分制度のなごりが今も残っている宗教である。一部の国だけで信仰されているこの宗教は何か、また、その一部だけの国を答えなさい。

(2017年「The World Almanac」)

- ⑪資料5のYでは、祈りの方法から衣服の着方、食事の仕方など日常生活に関わる細かいきまりがある。どんなきまりがあったか、1つ書きなさい。

6. 時事問題について答えなさい。

- ①写真1は令和3年9月27日に行われた自民党総裁選で第27代自民党総裁になった人物である。この人物の名前を答えなさい。(名字のみでも可)

〔写真1〕



令和3年度第1学年2学期確認テスト解答用紙

組 番 名前

1	
①	推古天皇
②	ウ
③	役人の心構えを示すため。(役人の守るべきことを示すため。)
④	法隆寺
⑤	ア
⑥	C 中大兄皇子      D 中臣鎌足
⑦	公地・公民
⑧	A 新羅      B 高句麗
⑨	白村江の戦い
⑩	唐や新羅の侵攻に備えるため
⑪	イ
2	
①	A イ      B ウ
②	a 租      b 調      c 庸
③	和同開珎
④	墾田永年私財法によって、貴族・寺院がさかんに私有地を広げた
3	
①	征夷大將軍
②	男子に課せられた重い負担から逃れるために、戸籍を女子と偽った
③	ア
④	後一条天皇の祖父として、摂政に就こうとした
⑤	取り立てた税の一部を自分の収入にしてしまう

4		
①	仏教の方で国を守ろうとしたから	
②	万葉集	
③	B      A <del>B</del> A	
5		
①	A 砂漠気候 →      B エ サバナ気候 C ツンドラ気候      D 地中海性気候 イ	
②	ア [写真3], [雨温図1]      イ [写真1], [雨温図4]	
③	雨温図 3      理由 例 1月頃の気温が高く、7月頃の気温が低い	
④	高床の家      理由 家の中に熱や湿気がこもらないようにするため	
⑤	a オリーブ      b ぶどう	
⑥	c 壁      d 日差し	
⑦	建物から出る熱が永久凍土を溶かさないようにするため	
⑧	亜寒帯では、夏には気温が上がるため樹木が育つが、寒帯では、夏でも気温が上がらないため樹木は育たない	
⑨	キリスト教      イスラム教	
⑩	ヒンドゥー教	
⑪	食事に左手を使わない、豚肉は食べない 等	
6		
①	岸田文雄	
知・技	総・利・義	合計
/	/	
60	40	