

令和3年度 第1学年

学年末テスト

社会（地理・歴史）

2月 16日（水） 第1校時 実施

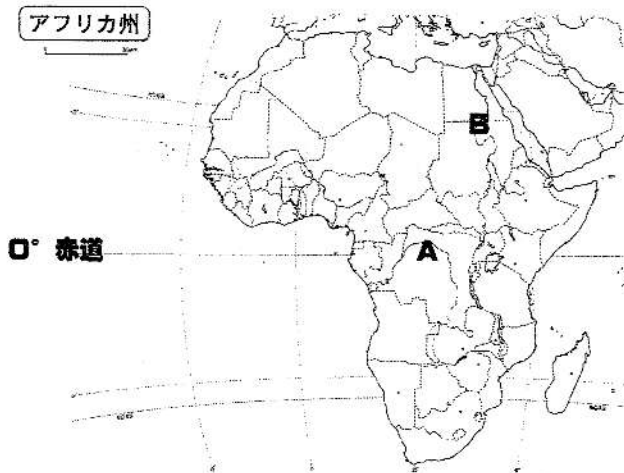
注意事項

- ・問題は【1】～【5】まで ページである。
- ・解答は、問題用紙とは別に解答用紙に記入すること。
- ・はっきり分かりやすく字を書くこと。
- ・解答欄外へはみ出してもよいが、できる限り枠内に収めること。
- ・誤字や脱字、は減点対象となるので注意すること。

1年	組	番	名前
----	---	---	----

【1】 アフリカ州について次の問いに答えなさい。

〔地図1〕



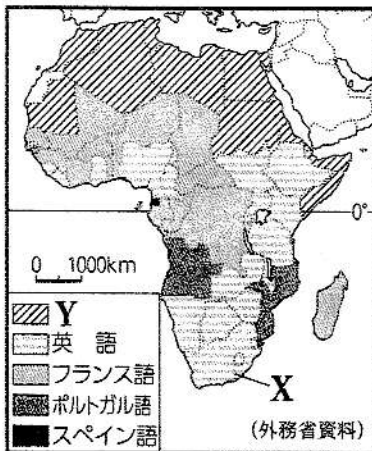
(1) 〔地図1〕はアフリカ州の地図である。次の①、②の問いに答えなさい。

① アフリカ州は赤道を通っている。Aの位置はどんな気候であると考えられるか、当てはまるものを次のア～エから一つ選び、記号で答えなさい。

- ア 熱帯雨林気候 イ サバナ気候 ウ 砂漠気候 エ 地中海性気候

② Bは世界最長の川である。この川の名称を答えなさい。

〔資料1〕



(2) 〔資料1〕はアフリカ州で使われている言語を表したものである。言語について、次の①～③の問いに答えなさい。

① 〔資料1〕のYに当てはまる言語は何語か、次のア～エから一つ選び、記号で答えなさい。

- ア 日本語 イ オランダ語
ウ アラビア語 エ イタリア語

② 〔資料1〕から、アフリカでは広くヨーロッパの言語が使われていることが分かる。これはなぜか、歴史的な背景にふれて書きなさい。

③ 地図からさらに、中央から南の地域でヨーロッパの言語が使われていることが分かる。このことから、中央から南の地域で信仰されるようになった宗教が予測できる。どんな宗教かを答えなさい。

- (3) 資料2から、エチオピアとザンビアはモノカルチャー経済の国であることが分かる。モノカルチャー経済とはどのような経済か、資料3から読み取り、「農産物や鉱産資源」という語句を使って書きなさい。

〔資料2〕

●A エチオピア			●B ザンビア	
コーヒー豆 41.5%	14.4	7.5	銅 75.2%	その他 24.8
豆類		金(非貨幣用)	(2019/20年「世界国勢図会」ほか)	

- (4) アフリカの各国で問題となっているのは、次の二つのことである。文中の(あ)～(う)に当てはまる語句を書きなさい。

・貧困に苦しむ国が多く、人口の増加による(あ)が不足すること。栄養が足りなくなり、病気で死亡する人も多い。

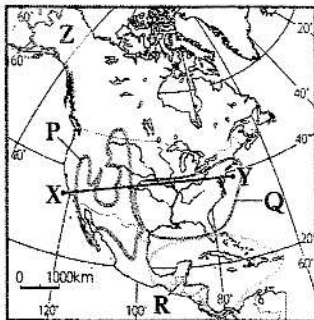
・仕事を求めて農村から人々が出てくるので、(い)化が急激に進む一方で、環境や衛生の悪い居住区である(う)が形成されている。

- (5) 次のア～エのうち、アフリカ諸国の自立にとって特に重要だと考えられる支援をすべて選び、記号を書きなさい。

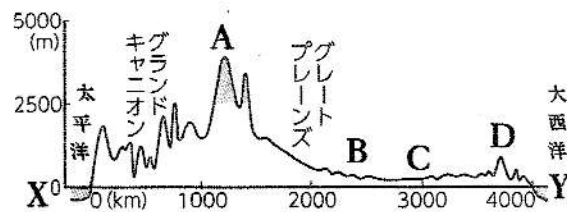
- ア 教育や医療の知識を現場の人に教える。
- イ 企業が工場をつくり現地の人を雇って生産する。
- ウ 先進国が多額のお金を貸し出す。
- エ アフリカでよく育つ作物の栽培技術を指導する。

- 【2】北アメリカ州について次の問いに答えなさい。

〔資料1〕



〔資料2〕



- (1) 資料1と資料2を見て、次の問いに答えなさい。


- ① 資料1のX—Y間の断面図を見て、資料2のA～Dにはどんな名称があてはまるのか、次のア～エから一つ選び、記号で答えなさい。

	A	B	C	D
ア	ロッキー山脈	プレーリー	中央平原	アパラチア山脈
イ	アパラチア山脈	プレーリー	中央平原	ロッキー山脈
ウ	ロッキー山脈	中央平原	プレーリー	アパラチア山脈
エ	アパラチア山脈	中央平原	プレーリー	ロッキー山脈

② アメリカ合衆国は西経 100 度を境として、降水量に大きな違いがみられる。降水量が少ない地域は西経 100 度よりも西側か東側か、答えなさい。

(2) 近年、アメリカ合衆国では、メキシコや中央アメリカ、カリブ海諸国などから移住してきた、スペイン語を話すヒスパニックが増えている。彼らはなぜアメリカ合衆国に移住してくるのか、「収入」という語句を使って書きなさい。

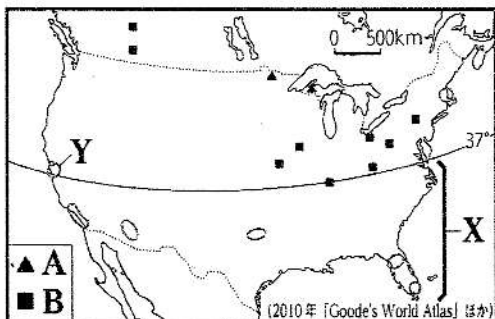
〔資料 3〕



(3) 資料 3 から分かるようにアメリカ合衆国は農産物を大量に生産している。なぜ、このように大量に生産できるのかを「広大な土地」、「適地適作」の語句を用いて説明しなさい。

(4) アメリカ合衆国の工業について、次の①、②の問いに答えなさい。

〔地図 1〕



① アメリカ合衆国の工業発展のもととなった、資料 4 の A、B に分布する鉱産資源を、下の□から一つずつ選び、書きなさい。

- 原油
- 石炭
- 鉄鉱石

② 地図の○でさかんな、航空宇宙産業やコンピュータ関連産業、バイオテクノロジーなどの、時代の先端をいく技術を利用した産業を何というか書きなさい。

③ ②の産業が発達した地図の北緯 37 度線から南の X の地域と、②の産業の研究拠点となる大学や多くの情報通信技術 (ICT) 関連産業が集中している Y の地域を、下の□から一つずつ選び、書きなさい。

- サンベルト
- アグリビジネス
- 穀物メジャー
- シリコンバレー

(5) アメリカ合衆国は世界で最もガソリン消費量が多い国になっている。石油や石炭の消費が増えると、二酸化炭素などの温室効果ガスの排出量が増加し、地球温暖化が進むと考えられる。アメリカ合衆国が二酸化炭素の排出量を減らすと取り組みとして、最も適しているものを次のア～エから一つ選び、記号を書きなさい。

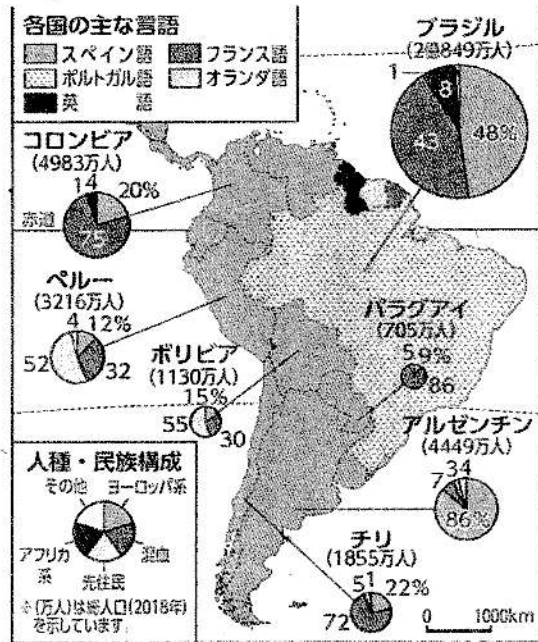
- ア 物を大量生産・大量消費する
- イ 再生可能エネルギーの利用
- ウ 食品を廃棄する
- エ 多国籍企業をさらに進出させる

【3】南アメリカ州について、次の問いに答えなさい。

〔地図1〕

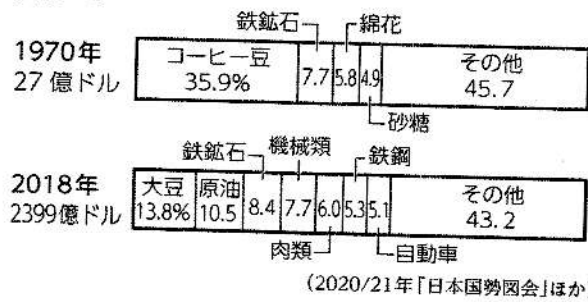


〔資料1〕

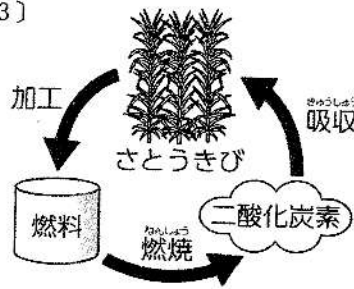


- (1) 地図1のAの川を何というか書きなさい。
- (2) 資料1は各国の主な言語、人種・民族構成をまとめたものである。資料の読み取りとして、よさわしくないものを次のア～エから一つ選び、記号で答えなさい。
- ア 南アメリカ州は主にスペイン語、ポルトガル語を用いている。
 - イ ポルトガル語はブラジルで主に用いられている。
 - ウ コロンビアは先住民の割合がとても多い。
 - エ アルゼンチンはヨーロッパ系がの割合がとても多い。
- (3) 南アメリカ州の先住民は焼畑農業を行っていた。焼畑農業とはどのような農業か、「森林や草原」、「肥料」の2語を使って書きなさい。

〔資料2〕

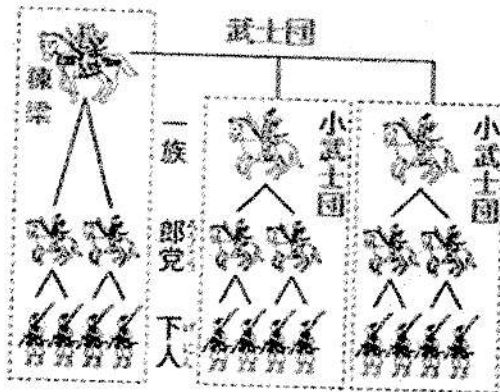


〔資料3〕

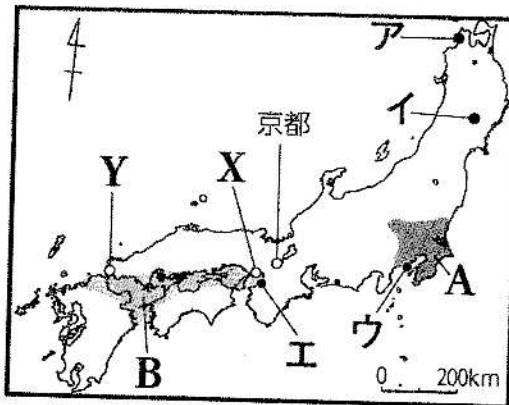


- (4) 資料2は、ブラジルの輸出品の変化を示したものである。ブラジルの輸出品の変化について、解答欄の書き出しに続く形で書きなさい。
- (5) ブラジルでは、2002年に、バイオ燃料を用いる自動車の所有に対して大幅な減税を行い、販売を促進した。この取り組みが環境保全につながるのとされるのはなぜか、資料3をもとに、解答欄の書き出しに続く形で書きなさい。
- 【4】武士の政権の成立について次の問いに答えなさい。

〔資料1〕



〔地図1〕



〔資料2〕

年代	内乱	内容
1156年	保元の乱	後白河天皇に味方した平清盛と源義朝が勝利した内乱
1159年	平治の乱	平清盛が源義朝を破って勢力を広げた内乱

- (1) 地方や都で武芸に優れる者の中から武士が生まれ、地方で成長して資料1のような武士団をつかった。その武士団の中でも、天皇の子孫である源氏と平氏が有力であった。次のa、bの武士団は源氏と平氏どちらか、書きなさい。
- a 11世紀後半に東北地方で二度の戦乱をしずめて東日本に勢力を広げた。
- b 12世紀前半に瀬戸内海の家賊をしずめて西日本に勢力を広げた。

- (2) 10世紀仲ごろに、地図1のA、Bの地域で、周辺の武士団を率いて反乱をおこした人物を、下の□から一人ずつ選び、書きなさい。

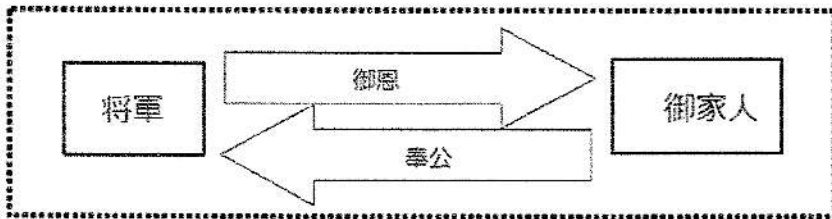
源義仲 藤原純友 平将門 藤原頼通

- (3) 地図1の京都では天皇と上皇の対立や貴族の対立から12世紀半ばに、資料2のような大きな内乱が二度おこり、武士を味方につけて戦った。その後、平清盛は勢力を広げ、武士として初の太政大臣となり、朝廷の政治の実権を握った。平清盛が勢力を広げた理由は、摂関政治を行った藤原氏と同じである。それはどんな理由か、書きなさい。

- (4) 平氏を倒すべく、源頼朝から命令を受けた弟の義経は、1185年、地図1のYで平氏をほろぼした。Yの地名について正しいものを次のア～エから一つ選び、記号で書きなさい。

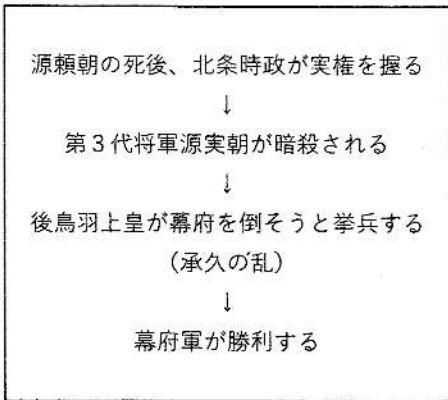
ア 大宰府 イ 壇ノ浦 ウ 筑西 エ 木曾

[資料3]

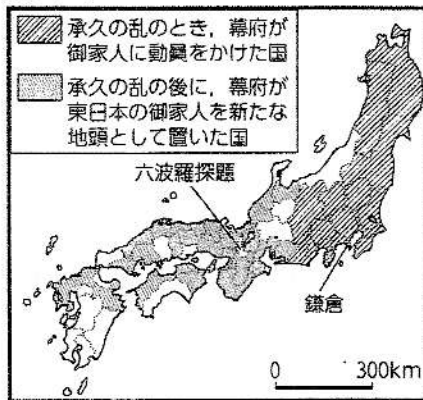


- (5) この時代は将軍と御家人は、資料3のように御恩と奉公の関係で結ばれていた。御恩とはどのようなことか、「領地」という語句を用いて書きなさい。

[資料4]



[資料5]



- (6) 承久の乱の後、後鳥羽上皇を隠岐（島根県）に流し、京都に六波羅探題を設置した。六波羅探題はどのような役割があるのか、説明しなさい。

〔資料6〕

(C) 1232年 (部分要約)

- 諸国の守護の職務は、頼朝公の時代に定められたように、京都の御所の警備と、謀反の殺人などの犯罪人の取りしまりに限る。
- 武士が20年の間、実際に土地を支配しているならば、その権利を認める。
- 女性が養子をとることは、律令では許されていないが、頼朝公のとき以来現在に至るまで、子どものない女性が土地を養子にゆずりあたえる事例は、武士の慣習として数え切れない。

(7) 執権北条泰時が出した資料6について①、②の問いに答えなさい。

① 資料6の (C) に入る法令を何というか、書きなさい。

② 資料6は律令とは異なり、何にもとづいて定められたか、資料6から読み取れることをもとにして書きなさい。

(8) 武士と民衆の生活について①～③の問いに答えなさい。

① 武士の生活について下の文中の (c) ～ (f) にあてはまる語句を□からそれぞれ選び、書きなさい。

武士は常に (c) や弓矢の (d) によって心身をきたえていました。武士の住まいでは (c) が飼われ、(e) の訓練が行われました。
武士の一族は、長である (f) を中心にまとまり、団結していました。

(語群)

牛 武芸 練習 棟梁 BIG BOSS 惣領 乗馬 武神 馬 アルパカ

② 民衆の中には、鎌倉時代から始まった、同じ農地で米と麦を交互につくる農業を行う者がいた。この農業の名前を書きなさい。

③ 農業の発展に伴い、手工業者が村に住み着くようになり、寺社の門前や交通の要所に月に3度の市が開かれ、町が生まれた。この市のことを何というか、書きなさい。

〔資料7〕



(9) 資料7の人物に関連する宗教について正しいことを述べているものを次のア～ウから一つ選び、記号で書きなさい。

ア 法然は浄土宗を開き、一心に「南無阿弥陀仏」と念仏を唱えれば、誰でも極楽浄土に生まれ変わると説いた。

イ 日蓮は日蓮宗を開き、念仏の札を配って教えを広めた。

ウ 栄西は浄土真宗を開き、阿弥陀如来の救いを信じる心を強調した。

【5】 ユーラシアの動きと武士の政治の展開について次の問いに答えなさい。

〔資料1〕


〔資料2〕



A



B



(1) 資料1のAの人物はモンゴル帝国の一部地域の国名を元とした。Aの人物は日本を従えようとして使者を送ったが、当時の執権のBがそれを無視した。A、Bにあてはまる人物名を次のア～エから一つずつ選び、記号で書きなさい。

ア フビライ・ハン イ 北条政子 ウ 北条時宗 エ チンギス・ハン

(2) 資料2は、文永の役のような様子を描いたものである。日本の武士が元軍との戦いに苦戦した理由を読み取り、元軍の戦い方にふれて書きなさい。

〔資料3〕

なぜ、鎌倉幕府がほろびたのか	
①	領地の分割相続で武士の生活が苦しかったから
②	徳政令を出したが、効果は一時的だったから
③	北条氏の一族に権力が集中したから
④	後醍醐天皇による倒幕の計画があったから
⑤	C

(3) モハメドさんは日本の歴史に興味をもち、なぜ、鎌倉幕府がほろんだのかを資料3のようにまとめました。しかし、資料3の⑤がスピードワゴンさんによって消しゴムで消されてしまいました。資料3の⑤のCに当てはまる理由を、「幕府」「悪党」の語句を用いて書きなさい。

〔資料4〕

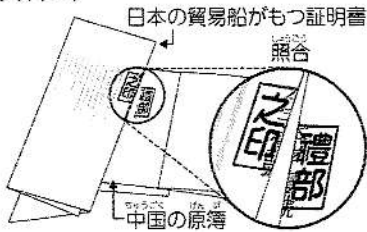


日本書紀
 この時、天皇の御心遣ひて、
 夜襲、天皇のにせの命を、
 囚人、急使を乗せた早馬、たいしたこともないのに、
 生首が軋がり、徳が他人にもどり、俗人が勝手に徳になり、
 急に広い身分から大卒になるものがあるかと思えば、
 領地の保護や恩賞を得るために、
 領地をはなれて裁判を起しに京都に上った人は、
 証拠の文書を入れた小さなつづらを荷負って、
 こびへつらい、人の悪口を言い、
 他に仲介をたのむ、
 下町上によくて成り上がった者が、
 能力のあるなしも調べられず、
 随分力からもれることなく、
 裁判所に任用される。

(部分要約)

- (4) 鎌倉幕府を倒した後醍醐天皇は、天皇中心の新しい政治(建武の新政)を始め、貴族を重視する政策を採った。資料4は当時の都のようすを表したものである。この資料からどんなことが読み取れるか、資料4をもとに、解答欄の書き出しに続く形で書きなさい。
- (5) 1336年、朝廷が2つに分かれた。この時代のことを何というか書きなさい。

〔資料5〕



- (6) 14世紀ごろ、日本は明と貿易を行っていたが、資料5のような証明書が用いられていた。なぜ、証明書を用了貿易になったのか、その理由を書きなさい。
- (7) 資料6の琉球は、日本や明、朝鮮、東南アジアの国々との間で、産物をやりとりする貿易を行って栄えた。この貿易を何というか書きなさい。

〔資料6〕

