

令和2年度
中学2年 期末テスト
社会（地理・歴史）

9月29日（火） 第3校時間 実施

注意事項

- ・問題は〔1〕～〔5〕まで5ページある。
- ・解答は、問題用紙とは別の解答用紙に記入すること。
- ・はっきりとわかりやすい字で書くこと。
- ・解答欄外へはみ出してもよいが、できる限り枠内に収めること。
- ・誤字、脱字は減点対象となるので、注意すること。
- ・必要以上にひらがな表記にしないこと。

2年	組	番	名前
----	---	---	----

[1] 以下の設問に答えよ。


(1) 資料に示されているのは、江戸時代中期に行われた複数の改革の名称、実行した人物、その内容をまとめたものである。資料の()にあてはまる語句を語群から選び、解答欄に記号で書きなさい。

改革の名称	実行した人物	改革の内容
享保の改革	(1)	新田開発 , 上米の制 (4) の制定 , 目安箱の設置
田沼の政治	田沼意次	(5) の推奨 , 倭物の輸出を拡大 蝦夷地の調査 , 印旛沼の干拓
寛政の改革	(2)	旗本や御家人の借金帳消し , 倭約令 ききんに備えて米を備蓄
天保の改革	(3)	物価上昇を抑えるために (5) を解散 江戸に出稼ぎに来ていた農民を村に返す


資料 江戸時代中期の改革

(語群) ア. 徳川綱吉	キ. 徳川吉宗	ク. 松平定信	ケ. 大塩平八郎
カ. 天草四郎	ク. 水野忠邦	ケ. 御成敗式目	コ. 武家諸法度
ケ. 公事方御定書	コ. 株仲間	サ. 五人組	シ. 異国船打払令

(2) 江戸時代に発達した文化の代表として浮世絵があげられる。以下に示す図は、特に江戸の町人に人気となった作品である。それぞれの作者名を書きなさい。また、この時代の江戸の町人を中心とする庶民の文化を何と呼ぶか書きなさい。



「東海道五十三次 日本橋」



「富嶽三十六景 神奈川沖浪裏」

(3) この時期の日本は鎖国の体制をとっており、「異国船打払令」などの強い姿勢を取っていた。しかし、のちにこれをやめ、外国船に燃料や水の補給を行うことを認めた。幕府の方針が変わった理由について、以下の言葉を用いて文章で説明しなさい。

(言葉) アヘン戦争	イギリス	清
------------	------	---

[2] 以下の設問に答えよ。

(1) 以下の文章を読み、(1)～(3)に適語を入れなさい。

18世紀に入ると、ヨーロッパで新しい考え方が広まり、イギリスやフランスといった国が大変革を成し遂げ、力を伸ばしてきた。イギリスは国王が治めていた君主制の国だったが、2度の革命の後、国王の権力は憲法に基づくものであるとする(1)と議会政治が世界で初めて行われた。フランスも同様に国王が治めていたが、その権力は当時絶大なもので(2)と呼ばれた。しかしそれに反発した市民が革命を起こし、多くの関係者が処刑されることになった。また、大西洋を隔てた北アメリカ大陸の地域では、イギリスからの独立を求めて戦争が起こり、(3)が誕生した。

(2) 下線部(ア)とあるが、それまでの迷信や偏見などの非合理的な考え方を打ち破り、理性的を重視したこの考え方のことを何というか、書きなさい。また、この考え方を唱えた代表的な人物として誤っている人物名を四角の選択しから一人選んで書きなさい。

(人物)	ジャン＝ジャック・ルソー	シャルル・ド・モンテスキュー
	ジョン・ロック	ナポレオン・ボナパルト

(3) 資料を見て、以下の問いに答えなさい。

資料1

第1条

人は生まれながらに自由で()な権利をもつ。社会的な区別は、ただ公共の利益に関係のある場合にしか設けられてはならない。

資料2

われわれは以下のことを自明の心理であると信じる。人間はみな()につくられ、ゆずりわたすことのできない権利を神によって与えられ……その中には、生命、自由、幸福の追及が含まれていること、である。

(ア) 資料1はフランス革命のときに、資料2はアメリカ独立戦争のときに言われた宣言である。それぞれ何というか、書きなさい。

(イ) 資料1、資料2の()に共通してあてはまる語句を、漢字2字で書きなさい。


(4) フランス革命のときフランスと周囲の国々の間で戦争が起こった。周囲の国々は、なぜフランスに軍を送ったのか、「革命」という言葉を使って説明しなさい。

[5] 以下の設問に答えよ。


(1) 以下の文章を読み、(1)～(3)に適語を入れなさい。

(ア)日本の国土面積のうち大部分は山地で占められており、その割合はおよそ(1)%にもおよぶ。本州中央部には、3000m級の山々からなる日本アルプスがそびえている。その東側には大きな溝が存在し、日本列島はここを境として「く」を逆にしたように折れ曲がっている。日本列島を東西に分けているこの溝のことを(2)と呼ぶ。このように変化に富んだ地形が出来上がった要因の一つに、(イ)日本列島が造山帯の一部に組み込まれていることがある。世界の主な造山帯には、アルプス山脈やヒマラヤ山脈に位置する「アルプス・ヒマラヤ造山帯」と、日本も含んで太平洋を取り囲むように連なっている(3)などがある。

(2) 下線部(ア)とあるが、このような地形的な特徴により、世界と比較して日本の河川は流域面積が低く流れが急であると言われている。これによって生み出された図①、②を何と呼ぶか、正しいものを選び、記号で答えなさい。



図①



図②

- | |
|--------|
| ア. 三角州 |
| イ. 棚田 |
| ウ. 扇状地 |
| エ. 台地 |
| オ. 平地 |

(3) 土地がどのように利用されているか示すために、地図や地形図といった資料が作成されている。それについて、以下の問題に答えなさい

(ア) 次の土地利用の様子は、地図記号でどのように表されるか、地図記号を書きなさい。

- ① 果樹園 ② 水田

(イ) 地図上では、実際の距離や大きさを縮めて表している。2万5千分の一の地図上で、2地点間の距離が7cmだった場合、実際の距離は何mか、計算しなさい。

(4) 下線部(イ)とあるが、これによって日本は他国と比較しても地震の発生件数が多いと言われている。地震のような自然災害に対して、どのような備えをしておくべきか、以下の言葉を2つ以上使って文章で説明しなさい。

(言葉) ハザードマップ 自助 共助 公助 防災 減災

[4] 以下の設問に答えよ。

(1) 以下の文章を読み、(1)～(3)に適語を入れなさい。

その国の領域は、国際法により(1)・領海・領空として厳密に定められている。しかしそれ以外にも、沿岸の国が水産資源や鉱産資源を利用する権利とその水域についても定められている。海岸から12海里以内と定められたその水域のことを(2)という。しかし、領土や領域をめぐるは、日本の周辺国との間に見解の相違が生じており、国際問題となっている。特に大韓民国の間では(3)をめぐる領土問題が発生している。現在、韓国は(3)に警備隊を配置して実効支配を行っており、解決の見通しは立っていない。

(2) 日本の領土の最北端と最南端の島の名前を書きなさい。



(3) 世界各国は、自国内の時刻を統一するための標準時を設定している。これについて以下の問いに答えなさい。

(ア) 標準時を計算するための基準となる経線のことを何と呼ぶか、書きなさい。

(イ) 東経135度の東京が12月25日の午前1時のとき、以下の東経30度のカイロと西経75度のニューヨークが、何月何日の何時なのか計算しなさい。

(4) 下線部のように、領土や領域をめぐる日本は韓国以外にもロシアや中国、台湾と同様の領土問題を抱えている。韓国を除いたどの国と、どこをめぐる領土問題を抱えているのか、一つを挙げて説明しなさい。

[3] 以下の設問に答えよ。

(1) 以下の文章を読み、(1)～(3)に適語を入れなさい。

(ア)イギリスやフランスでは社会の仕組みが大幅に変化する革命が相次いで起こっていたが、この時期には科学技術の面でも大きな進歩があった。その始まりはイギリスであり、特に大きな影響を及ぼしたのが、ニューコメンが発明し、ワットが改良した(1)と呼ばれる動力機関である。これにより、人々は生産の元手を持つ資本家と、賃金をもらって働く労働者に分かれ、(2)の仕組みが生まれた。一方、アメリカでは国上を西に向けて拡大する西部開拓の時代を迎えていたが、(イ)ある制度をめぐって国を北部と南部に二分する戦争が起こっていた。最終的に北部側の北軍が勝利をおさめ、そのリーダーで当時の大統領である(3)が宣言を出し、その制度は消滅することとなった。

(2) 下線部(ア)について、社会の仕組みや人々の生活が大きく変化することを「革命」と呼ぶ。この時期の革命の名称とそれに合う内容を線で結びなさい。(各1点)

【革命の名称】

【革命の内容】

- | | |
|------------|---|
| 名誉革命 ● | ● 蒸気機関の登場によって、綿織物が安く大量に生産できるようになり、産業が発展した。 |
| 産業革命 ● | ● イギリス国王の専制政治に反発し、議会側はクロムウェルを指導者とし、最終的に国王を処刑した。 |
| フランス革命 ● | ● 平民への重い税金と国王らの浪費に反発し、市民がバスティーユ牢獄を襲撃したことから始まった。 |
| ピューリタン革命 ● | ● 再び専制を行った国王を国外に追放し「権利章典」を發布した。革命では流血がなかったとされる。 |

(3) 下線部(イ)について、以下の問題に答えなさい。


- ① この戦争の原因にもなった制度の名前を、解答欄に書きなさい。
- ② ①の制度で差別された人々は、どこから連れてこられたのか、解答欄に書きなさい。
- ③ この戦争で北軍のリーダーとして活躍した(3)の人物の写真を選び、記号で答えなさい。



A



B



C

北軍

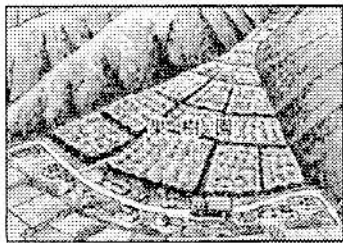
(4) アメリカが西部開拓を行っていたころ、ユーラシア大陸ではある国が、シベリアからの更なる領土拡大を目指していた。この国名と領土拡大制作を解答欄にそれぞれ書きなさい(各2点)

[5] 以下の設問に答えよ。


(1) 以下の文章を読み、(1)～(3)に適語を入れなさい。

(ア)日本の国土面積のうち大部分は山地で占められており、その割合はおよそ(1)%にもおよぶ。本州中央部には、3000m級の山々からなる日本アルプスがそびえている。その東側には大きな溝が存在し、日本列島はここを境として「く」を逆にしたように折れ曲がっている。日本列島を東西に分けているこの溝のことを(2)と呼ぶ。このように変化に富んだ地形が出来上がった要因の一つに、(イ)日本列島が造山帯の一部に組み込まれていることがある。世界の主な造山帯には、アルプス山脈やヒマラヤ山脈に位置する「アルプス・ヒマラヤ造山帯」と、日本も含んで太平洋を取り囲むように連なっている(3)などがある。

(2) 下線部(ア)とあるが、このような地形的な特徴により、世界と比較して日本の河川は流域面積が低く流れが急であると言われている。これによって生み出された図①、②を何と呼ぶか、正しいものを選び、記号で答えなさい。



図①



図②

- | |
|--------|
| ア. 三角州 |
| イ. 棚田 |
| ウ. 扇状地 |
| エ. 台地 |
| オ. 平地 |

(3) 土地がどのように利用されているか示すために、地図や地形図といった資料が作成されている。それについて、以下の問題に答えなさい

(ア) 次の土地利用の様子は、地図記号でどのように表されるか、地図記号を書きなさい。

- ① 果樹園 ② 水田

(イ) 地図上では、実際の距離や大きさを縮めて表している。2万5千分の一の地図上で、2地点間の距離が7cmだった場合、実際の距離は何mか、計算しなさい。

(4) 下線部(イ)とあるが、これによって日本は他国と比較しても地震の発生件数が多いと言われている。地震のような自然災害に対して、どのような備えをしておくべきか、以下の言葉を2つ以上使って文章で説明しなさい。

(言葉) ハザードマップ 自助 共助 公助 防災 減災
